

2012

प्रश्नपुस्तिका क्रमांक
BOOKLET NO.

प्रश्नपुस्तिका

एकूण प्रश्न : 200

वेळ : 2 (दोन) तास

चाळणी परीक्षा/SCREENING TEST

एकूण गुण : 200

सूचना

- (1) सदर प्रश्नपुस्तिकेत 200 अनिवार्य प्रश्न आहेत. उमेदवारांनी प्रश्नांची उत्तरे लिहिण्यास सुरुवात करण्यापूर्वी या प्रश्नपुस्तिकेत सर्व प्रश्न आहेत किंवा नाहीत याची खात्री करून घ्यावी. असा तसेच अन्य काही दोष आढळल्यास ही प्रश्नपुस्तिका समवेक्षकांकडून लगेच बदलून घ्यावी.
- (2) आपला परीक्षा-क्रमांक ह्या चौकोनांत न विसरता बॉलपेनने लिहावा.

परीक्षा-क्रमांक									
	↑							↑	
	केंद्राची संकेताक्षरे				शेवटचा अंक				
- (3) वर छापलेला प्रश्नपुस्तिका क्रमांक तुमच्या उत्तरपत्रिकेवर विशिष्ट जागी उत्तरपत्रिकेवरील सूचनेप्रमाणे न विसरता नमूद करावा.
- (4) (अ) या प्रश्नपुस्तिकेतील प्रत्येक प्रश्नाला 4 पर्यायी उत्तरे सुचविली असून त्यांना 1, 2, 3 आणि 4 असे क्रमांक दिलेले आहेत. त्या चार उत्तरांपैकी सर्वात योग्य उत्तराचा क्रमांक उत्तरपत्रिकेवरील सूचनेप्रमाणे तुमच्या उत्तरपत्रिकेवर नमूद करावा. अशा प्रकारे उत्तरपत्रिकेवर उत्तरक्रमांक नमूद करताना तो संबंधित प्रश्नक्रमांकासमोर छायांकित करून दर्शविला जाईल याची काळजी घ्यावी. ह्याकरिता फक्त काळ्या शाईचे बॉलपेन वापरावे, पेन्सिल वा शाईचे पेन वापरू नये.
(ब) आयोगाने ज्या विषयासाठी मराठी बरोबर इंग्रजी माध्यम विहित केलेले आहे. त्या विषयाचा प्रत्येक प्रश्न मराठी बरोबर इंग्रजी भाषेत देखील छापण्यात आला आहे. त्यामधील इंग्रजीतील किंवा मराठीतील प्रश्नांमध्ये मुद्रणदोषांमुळे अथवा अन्य कारणांमुळे विसंगती निर्माण झाल्याची शंका आल्यास, उमेदवाराने संबंधित प्रश्न पर्यायी भाषेतील प्रश्नाशी ताडून पहावा.
- (5) सर्व प्रश्नांना समान गुण आहेत. यास्तव सर्व प्रश्नांची उत्तरे द्यावीत. घाईमुळे चुका होणार नाहीत याची दक्षता घेऊनच शक्य तितक्या वेगाने प्रश्न सोडवावेत. क्रमाने प्रश्न सोडविणे श्रेयस्कर आहे पण एखादा प्रश्न कठीण वाटल्यास त्यावर वेळ न घालविता पुढील प्रश्नाकडे वळावे. अशा प्रकारे शेवटच्या प्रश्नापर्यंत पोहोचल्यानंतर वेळ शिल्लक राहिल्यास कठीण म्हणून वगळलेल्या प्रश्नांकडे परतणे सोईस्कर ठरेल.
- (6) उत्तरपत्रिकेत एकदा नमूद केलेले उत्तर खोडता येणार नाही. नमूद केलेले उत्तर खोडून नव्याने उत्तर दिल्यास ते तपासले जाणार नाही.
- (7) प्रस्तुत परीक्षेच्या उत्तरपत्रिकांचे मूल्यांकन करताना उमेदवाराच्या उत्तरपत्रिकेतील योग्य उत्तरांनाच गुण दिले जातील. तसेच "उमेदवाराने वस्तुनिष्ठ बहुपर्यायी स्वरूपाच्या प्रश्नांची अचूक उत्तरेच उत्तरपत्रिकेत नमूद करावीत. अन्यथा त्यांच्या उत्तरपत्रिकेत सोडविलेल्या प्रत्येक चार चुकीच्या उत्तरांसाठी एका प्रश्नाचे गुण वजा करण्यात येतील".

ताकीद

ह्या प्रश्नपत्रिकेसाठी आयोगाने विहित केलेली वेळ संपेपर्यंत ही प्रश्नपुस्तिका आयोगाची मालमत्ता असून ती परीक्षाकक्षात उमेदवाराला परीक्षेसाठी वापरण्यास देण्यात येत आहे. ही वेळ संपेपर्यंत सदर प्रश्नपुस्तिकेची प्रत/प्रती, किंवा सदर प्रश्नपुस्तिकेतील काही आशय कोणत्याही स्वरूपात प्रत्यक्ष वा अप्रत्यक्षपणे कोणत्याही व्यक्तीस पुरविणे, तसेच प्रसिद्ध करणे हा गुन्हा असून अशी कृती करणाऱ्या व्यक्तीवर शासनाने जारी केलेल्या "परीक्षांमध्ये होणाऱ्या गैरप्रकारांना प्रतिबंध करण्याबाबतचा अधिनियम-82" यातील तरतुदीनुसार तसेच प्रचलित कायद्याच्या तरतुदीनुसार कारवाई करण्यात येईल व दोषी व्यक्ती कमाल एक वर्षाच्या कारावासाच्या आणि/किंवा रुपये एक हजार रकमेच्या दंडाच्या शिक्षेस पात्र होईल.

तसेच ह्या प्रश्नपत्रिकेसाठी विहित केलेली वेळ संपण्याआधी ही प्रश्नपुस्तिका अनधिकृतपणे बाळगणे हा सुद्धा गुन्हा असून तसे करणारी व्यक्ती आयोगाच्या कर्मचारीवृंदापैकी, तसेच परीक्षेच्या पर्यवेक्षकीयवृंदापैकी असली तरीही अशा व्यक्तीविरुद्ध उक्त अधिनियमानुसार कारवाई करण्यात येईल व दोषी व्यक्ती शिक्षेस पात्र होईल.

पुढील सूचना प्रश्नपुस्तिकेच्या अंतिम पृष्ठावर पहा

पर्यवेक्षकांच्या सूचनेविना हे सील उघडू नये

SEAL

कच्चा कामासाठी जागा /SPACE FOR ROUGH WORK

[Faint, illegible handwritten text in Devanagari script, likely bleed-through from the reverse side of the page.]



1. कोणते नेते पाश्चात्य ज्ञानाला 'वाघिणीचे दूध' असे म्हणत ?

- | | |
|-------------------------|-----------------------------|
| (1) सर फिरोजशाहा मेहता | (2) विष्णुबुवा ब्रह्मचारी |
| (3) महादेव गोविंद रानडे | (4) विष्णुशास्त्री चिपळूणकर |

Which leader described the western knowledge as 'milk of tigress' ?

- | | |
|---------------------------|------------------------------|
| (1) Sir Firozshaha Mehata | (2) Vishnubuwa Brahmachari |
| (3) Mahadeo Govind Ranade | (4) Vishnushastri Chiplunkar |

2. महाराष्ट्रात प्रतिसरकारची स्थापना कोणी केली होती ?

- | | |
|----------------------------|---------------------|
| (1) किसन वीर | (2) डी.जी. लाड |
| (3) क्रांतीसिंह नाना पाटील | (4) यशवंतराव चव्हाण |

Who established the 'anti-government' in Maharashtra ?

- | | |
|---------------------------|------------------------|
| (1) Kisan Veer | (2) D.G. Lad |
| (3) Krantisinh Nana Patil | (4) Yashwantrao Chavan |

3. गोपाळ कृष्ण गोखलेंनी कोणत्या राष्ट्रीय सभेच्या अधिवेशनात जाहिर केले होते की, वसाहतीचे स्वराज्य मिळविणे हे काँग्रेसचे ध्येय राहिल ?

- | | | | |
|----------------|-------------------|-------------------|-----------------|
| (1) सुरत, 1907 | (2) वाराणसी, 1905 | (3) कलकत्ता, 1906 | (4) मुंबई, 1915 |
|----------------|-------------------|-------------------|-----------------|

In which Indian National Congress Session, Gopal Krishna Gokhale declared the aim to achieve the colonial Swaraj ?

- | | | | |
|-----------------|--------------------|--------------------|------------------|
| (1) Surat, 1907 | (2) Varanasi, 1905 | (3) Calcutta, 1906 | (4) Mumbai, 1915 |
|-----------------|--------------------|--------------------|------------------|

4. मिश्र अर्थव्यवस्थेचा पुरस्कार कोणी केला होता ?

- | | |
|------------------|-------------------------|
| (1) इंदिरा गांधी | (2) लाल बहादूर शास्त्री |
| (3) पंडित नेहरु | (4) राजीव गांधी |

Who was the proponent of Mixed Economy ?

- | | |
|-------------------|-------------------------|
| (1) Indira Gandhi | (2) Lal Bahadur Shastri |
| (3) Pandit Nehru | (4) Rajiv Gandhi |

कच्च्या कामासाठी जागा /SPACE FOR ROUGH WORK

5. 'सिल्वर जुबिली रुरल ट्रेनिंग कॉलेज ची स्थापना कोणी केली होती ?

- | | |
|--------------------------|-----------------------------|
| (1) कर्मवीर भाऊराव पाटील | (2) डॉ. बाबासाहेब आंबेडकर |
| (3) राजर्षी शाहु महाराज | (4) महर्षि धोंडो केशव कर्वे |

Who established 'Silver Jubilee Rural Training College' ?

- | | |
|------------------------------|----------------------------------|
| (1) Karmaveer Bhauroao Patil | (2) Dr. Babasaheb Ambedkar |
| (3) Rajarshi Shahu Maharaj | (4) Maharshi Dhondo Keshav Karve |

6. खालील I व II यांच्या योग्य जोड्या लावा आणि बरोबर उत्तर (पर्याय) ओळखा -

- | (I) | | | | (II) | | | |
|-------------------------|--|--|--|---|--|--|--|
| (A) आर्य समाज | | | | (I) आधुनिक मुंबई चे जनक | | | |
| (B) एल्फिन्स्टन | | | | (II) दर्पण या वृत्तपत्राचे संपादक | | | |
| (C) जगन्नाथ शंकर शेट | | | | (III) वैदिक तत्त्वज्ञानाचा प्रभाव | | | |
| (D) बाळशास्त्री जांभेकर | | | | (IV) डेक्कन एज्युकेशन सोसायटी स्थापन करण्याला प्रेरणा | | | |
| (A) (B) (C) (D) | | | | | | | |
| (1) (IV) (III) (II) (I) | | | | | | | |
| (2) (II) (IV) (I) (II) | | | | | | | |
| (3) (III) (IV) (I) (II) | | | | | | | |
| (4) (III) (I) (IV) (II) | | | | | | | |

Match the following pairs I and II suitably and choose the correct answer.

- | (I) | | | | (II) | | | |
|-----------------------------|--|--|--|---|--|--|--|
| (A) Arya Samaj | | | | (I) Father of modern Mumbai | | | |
| (B) Elphinsten | | | | (II) Editor of newspaper 'Darpan' | | | |
| (C) Jagannath Shankar Sheth | | | | (III) Influence of vedic philosophy | | | |
| (D) Balshastri Jambhekar | | | | (IV) Support to the establishment of Deccan Education Society | | | |
| (A) (B) (C) (D) | | | | | | | |
| (1) (IV) (III) (II) (I) | | | | | | | |
| (2) (II) (IV) (I) (II) | | | | | | | |
| (3) (III) (IV) (I) (II) | | | | | | | |
| (4) (III) (I) (IV) (II) | | | | | | | |

7. पुणे येथे "अखिल भारतीय अस्पृश्यता निवारक संघाची" स्थापना कोणी केली ?

- | | |
|----------------------------|-------------------------------|
| (1) महात्मा ज्योतिबा फुले | (2) डॉ. बाबासाहेब आंबेडकर |
| (3) राजर्षी छ. शाहु महाराज | (4) महर्षि विठ्ठल रामजी शिंदे |

Who founded "the Akhil Bhartiya Asprushyata Niwarak Sangh" in Pune ?

- | | |
|----------------------------------|-----------------------------------|
| (1) Mahatma Jyotiba Phule | (2) Dr. Babasaheb Ambedkar |
| (3) Rajarshri Chh. Shahu Maharaj | (4) Maharshi Vitthal Ramji Shinde |

कच्च्या कामासाठी जागा /SPACE FOR ROUGH WORK

8. कोणत्या घटना दुरुस्तीनुसार भाषावार प्रांतरचना करण्यात आली ?

- | | |
|--------------------|--------------------|
| (1) पहिली दुरुस्ती | (2) सातवी दुरुस्ती |
| (3) सहावी दुरुस्ती | (4) चौथी दुरुस्ती |

Which constitutional amendment provided for state reorganisation on linguistic basis ?

- | | |
|---------------------|-----------------------|
| (1) First amendment | (2) Seventh amendment |
| (3) Sixth amendment | (4) Fourth amendment |

9. आय.सी.एस्. परीक्षा उत्तीर्ण झालेले पहिले भारतीय कोण होते ?

- | | |
|-----------------------------|-------------------------|
| (1) सर व्योमेशचंद्र बॅनर्जी | (2) सुरेंद्रनाथ बॅनर्जी |
| (3) फिरोजशाहा मेहता | (4) दादाभाई नौरोजी |

Who was the first Indian to have passed the I.C.S. exam ?

- | | |
|--------------------------------|--------------------------|
| (1) Sir Wyomeshchandra Banerji | (2) Surendranath Banerji |
| (3) Phirozshaha Mehata | (4) Dadabhai Nauroji |

10. कोणत्या जमिन महसूल व्यवस्थेत शेतकरी जमिनीचा मालक बनला ?

- | | |
|---------------------|---------------|
| (1) कायमधारा पद्धती | (2) जमिनदारी |
| (3) रयतवारी | (4) मिरासदारी |

In which land revenue system, an individual cultivator got transformed into the owner of land ?

- | | |
|--------------------------|---------------|
| (1) Permanent Settlement | (2) Zamindari |
| (3) Rayatwari | (4) Mirasdari |

11. कोणत्या संस्थेने खंडासंबंधीचे विधेयक (Rent Bill) लागू करण्यासाठी बंगालमधील शेतकऱ्यांच्या लढ्यास पाठिंबा दिला होता ?

- | | |
|----------------------------------|-----------------------------|
| (1) बंगाल ब्रिटिश इंडिया सोसायटी | (2) इंडियन असोसिएशन |
| (3) जमिनदार असोसिएशन | (4) ब्रिटिश इंडियन असोसिएशन |

Which organisation supported the farmers revolt in Bengal regarding implementation of the Rent Bill.

- | | |
|----------------------------------|--------------------------------|
| (1) Bengal British India Society | (2) Indian Association |
| (3) Zamindars Association | (4) British Indian Association |

कच्च्या कामासाठी जागा /SPACE FOR ROUGH WORK

12. सन 1985 मध्ये असंघटित क्षेत्रातील स्त्री कामगारांवर एक महत्त्वपूर्ण अभ्यास कोणी प्रसिद्ध केला ?

- | | |
|-------------------|---------------------|
| (1) सुलभा ब्रम्हे | (2) निर्मला बॅनर्जी |
| (3) लिला दुबे | (4) बीना आगरवाल |

Who published an important study on the women workers in the unorganized sector in 1985 A.D. ?

- | | |
|-------------------|----------------------|
| (1) Sulbha Brhame | (2) Nirmala Banerjee |
| (3) Lila Dube | (4) Bina Agarwal |

13. जगातील सर्वात मोठा तेलशुद्धीकरण कारखाना भारतातील कोणत्या ठिकाणी आहे ?

- | | | | |
|-------------|------------|------------|-------------------|
| (1) दिग्बोई | (2) मंगलोर | (3) जामनगर | (4) विशाखापट्टणम् |
|-------------|------------|------------|-------------------|

Which place in India has the world's largest oil refinery ?

- | | | | |
|------------|---------------|--------------|--------------------|
| (1) Digboi | (2) Mangalore | (3) Jamnagar | (4) Vishakhapatnam |
|------------|---------------|--------------|--------------------|

14. महाराष्ट्रात हिवाळ्यात तपमानात घट होत जाते. कारण _____.

- (अ) हिमालयावर बर्फ पडू लागतो
 (ब) उत्तरेकडील शीत वारे महाराष्ट्रात येतात.
 (क) पर्जन्यकाळात खूप मोठ्या प्रमाणावर पाऊस पडतो.
 (ड) सूर्याच्या भासमान भ्रमण मार्गामुळे या काळात सूर्याची किरणे तिरकस पडतात.

पर्याय निवडा :

- | | | | |
|--------------|--------------|-----------------|--------------|
| (1) फक्त (अ) | (2) फक्त (ब) | (3) (अ) आणि (क) | (4) फक्त (ड) |
|--------------|--------------|-----------------|--------------|

The temperature of Maharashtra in winter season decreases because :

- (A) Snowfall begins in Himalaya
 (B) Northern cold winds start blowing towards Maharashtra
 (C) Heavy rainfall during rainy season
 (D) The Sun rays are oblique during this period.

Select options :

- | | | | |
|--------------|--------------|-----------------|--------------|
| (1) Only (A) | (2) Only (B) | (3) (A) and (C) | (4) Only (D) |
|--------------|--------------|-----------------|--------------|

कच्च्या कामासाठी जागा /SPACE FOR ROUGH WORK

15. योग्य जोड्या जुळवा :

- | | |
|--------------|----------------------|
| (A) पुणे | (I) हरिश्चंद्र |
| (B) अहमदनगर | (II) साल्हेर-मुल्हेर |
| (C) नाशिक | (III) देवगिरी |
| (D) औरंगाबाद | (IV) शिवनेरी |

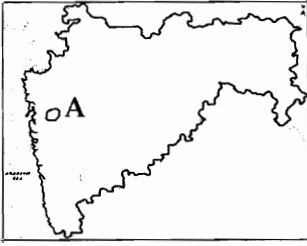
- | | | | |
|-----------|------|-------|-------|
| (A) | (B) | (C) | (D) |
| (1) (II) | (I) | (IV) | (III) |
| (2) (IV) | (I) | (II) | (III) |
| (3) (III) | (II) | (IV) | (II) |
| (4) (I) | (IV) | (III) | (II) |

Match the following :

- | | |
|----------------|----------------------|
| (A) Pune | (I) Harishchandra |
| (B) Ahmednagar | (II) Salher - Mulher |
| (C) Nashik | (III) Deogiri |
| (D) Aurangabad | (IV) Shivneri |

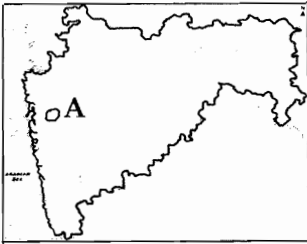
- | | | | |
|-----------|------|-------|-------|
| (A) | (B) | (C) | (D) |
| (1) (II) | (I) | (IV) | (III) |
| (2) (IV) | (I) | (II) | (III) |
| (3) (III) | (II) | (IV) | (II) |
| (4) (I) | (IV) | (III) | (II) |

16. महाराष्ट्राच्या नकाशात 'A' या अक्षराने दाखविण्यात आलेला प्रदेश खालीलपैकी कोणता आहे ?



- | | |
|-----------------------------|-------------------------------|
| (1) कोळसा खाणकाम केंद्र | (2) शेती आधारित पर्यटन केंद्र |
| (3) संत्रा प्रक्रिया केंद्र | (4) मासेमारी केंद्र |

The region shown by letter 'A' in the map of Maharashtra depicts :



- | | |
|------------------------------|--------------------------------------|
| (1) Coal mining centre | (2) Agriculture based tourism centre |
| (3) Orange processing centre | (4) Fishing centre |

कच्च्या कामासाठी जागा /SPACE FOR ROUGH WORK

P.T.O.

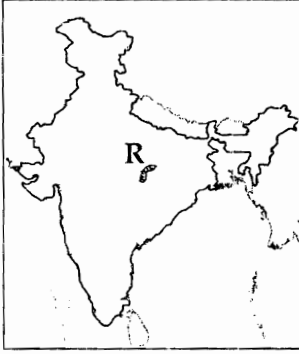
17. लांबीने खूप मोठी, मंद प्रवाही आणि रुंद दऱ्यातून वाहणारी ही _____ नदीची वैशिष्ट्ये आहेत.

- (1) वैतरणा (2) सावित्री (3) पाताळगंगा (4) कृष्णा

Longest, low speed and flowing through wider valley are the characteristics of _____ river.

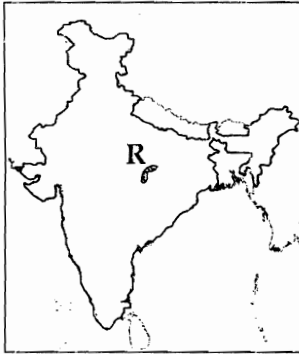
- (1) Vaitarana (2) Savitri (3) Patalganga (4) Krishna

18. भारताच्या नकाशामध्ये 'R' या अक्षराने दर्शविलेली डोंगररांग खालीलपैकी कोणती आहे ?



- (1) अरवली रांग (2) मैकल रांग
(3) बालाघाट रांग (4) सातपुडा रांग

The hill range shown by letter 'R' in the map of India is _____.



- (1) Arawali range (2) Maikal range
(3) Balaghat range (4) Satpura range

कच्च्या कामासाठी जागा /SPACE FOR ROUGH WORK

19. पंचायत राज्य व्यवस्था केव्हा सुरु झाली ?

- | | |
|-----------------------|----------------------|
| (1) 15 ऑगस्ट 1947 | (2) 2 ऑक्टोबर 1959 |
| (3) 26 नोव्हेंबर 1949 | (4) 26 जानेवारी 1950 |

When was Panchayat Raj system started ?

- | | |
|--------------------------------|--------------------------------|
| (1) 15 th Aug. 1947 | (2) 2 nd Oct. 1959 |
| (3) 26 th Nov. 1949 | (4) 26 th Jan. 1950 |

20. जिल्हा परिषद _____ वर कर लावू शकते.

- | | | | |
|------------|----------|-----------|---------------|
| (1) यात्रा | (2) पाणी | (3) बाजार | (4) वरील सर्व |
|------------|----------|-----------|---------------|

Zilla Parishad can impose tax on _____.

- | | | | |
|----------------|-----------|-------------|----------------------|
| (1) Pilgrimage | (2) Water | (3) Markets | (4) All of the above |
|----------------|-----------|-------------|----------------------|

21. " भारतीय संविधानातील 32 वे कलम भारतीय संविधानाचा आत्मा व हृदय होय." हे विधान कोणी केले ?

- | | |
|-------------------------|------------------------|
| (1) डॉ. राजेंद्र प्रसाद | (2) पंडीत नेहरु |
| (3) प्रो. एच.व्ही. कामत | (4) डॉ. बी.आर. आंबेडकर |

Who said. "Article 32 of the constitution is the heart and soul of the Indian Constitution" ?

- | | |
|-------------------------|-----------------------|
| (1) Dr. Rajendra Prasad | (2) Pandit Nehru |
| (3) Prof. H.V. Kamath | (4) Dr. B.R. Ambedkar |

22. भारतीय संविधानाचे खालीलपैकी कोणते वैशिष्ट्य हे संघराज्याचे वैशिष्ट्य नाही ?

- | | |
|-------------------|-------------------|
| (1) लिखित संविधान | (2) एक नागरिकत्व |
| (3) दूहेरी शासन | (4) मूलभूत अधिकार |

Which one of the following is not a Federal feature of the Indian Constitution ?

- | | |
|--------------------------|------------------------|
| (1) Written Constitution | (2) Single Citizenship |
| (3) Dual Government | (4) Fundamental Rights |

कच्च्या कामासाठी जागा /SPACE FOR ROUGH WORK

23. ग्रामपंचायतीची स्थापना केली जावी अशी तरतुद भारताच्या संविधानात सुरवातीस कोठे आहे ?

- | | |
|---------------------|------------------------------------|
| (1) मूलभूत हक्क | (2) राज्यनितीची मार्गदर्शक तत्त्वे |
| (3) उद्देश्यपत्रिका | (4) मूलभूत कर्तव्ये |

In which part of the Indian Constitution the establishment of Grampanchayat, has first been suggested ?

- | | |
|-----------------------|--|
| (1) Fundamental Right | (2) Directive principles of state policy |
| (3) Preamble | (4) Fundamental Duties |

24. पुढीलपैकी कोणती योजना भारत निर्माण कार्यक्रमात सर्वात जास्त यशस्वी ठरली आहे ?

- (1) प्रधानमंत्री ग्राम सडक योजना
- (2) पाणलोट विकास कार्यक्रम
- (3) राजीव गांधी विद्युतीकरण योजना
- (4) इंदिरा आवास योजना

Which of the following is one of the most successful programmes under Bharat Nirman ?

- (1) Pradhan Mantri Gramsadak Yojana
- (2) Watershed Development Scheme
- (3) Rajiv Gandhi Grameen VidyutiKaran Yojana
- (4) Indira Awas Yojana

25. खालीलपैकी कोणत्या समितीने सरपंचाची निवड सरळ गावांतील मतदारांकडून केली जावी अशी शिफारस केली होती ?

- | | |
|------------------------|------------------------|
| (1) व्ही.पी.नाईक समिती | (2) बाबुराव काळे समिती |
| (3) पी.बी. पाटील समिती | (4) बोगिरवार समिती |

Which of the following committees had suggested that the Sarpanch should be elected directly by voters of the village ?

- | | |
|--------------------------|----------------------------|
| (1) V.P. Naik Committee | (2) Baburao Kale Committee |
| (3) P.B. Patil Committee | (4) Bongirwar Committee |

26. भारतीय संविधानाने मूलभूत अधिकारांची तरतुद कोणत्या देशातून स्विकारली ?

- | | | | |
|------------------|-------------|-------------|-----------------|
| (1) ग्रेट ब्रिटन | (2) अमेरिका | (3) आयर्लंड | (4) ऑस्ट्रेलिया |
|------------------|-------------|-------------|-----------------|

Where from did the Indian constitution adopt the provision of Fundamental Rights ?

- | | | | |
|-------------------|------------|-------------|---------------|
| (1) Great Britain | (2) U.S.A. | (3) Ireland | (4) Australia |
|-------------------|------------|-------------|---------------|

27. समानतेच्या अधिकारात खालील अधिकारांचा समावेश होतो -

- (अ) जात, वंश इ. आधारावरील भेदभावविरुद्ध अधिकार.
- (ब) समान कामासाठी समान वेतन.
- (क) किताबांवर बंदी
- (ड) कायद्यासमोर समानता.
- (ई) अस्पृश्यतेवर बंदी

पर्याय निवडा :

- | | |
|---------------------------|------------------------|
| (1) (अ), (क), (ड) आणि (ई) | (2) (अ), (ब), (क), (ई) |
| (3) (अ), (क), (ब) | (4) (क), (ड), (ई) |

Right to equality includes :

- (A) Right against discrimination on grounds of caste, race etc.
- (B) Equal pay for Equal work
- (C) Abolition of Titles
- (D) Equality Before Law
- (E) Abolition of Untouchability

Select options :

- | | |
|---------------------------|------------------------|
| (1) (A), (C), (D) and (E) | (2) (A), (B), (C), (E) |
| (3) (A), (C), (B) | (4) (C), (D), (E) |

28. ज्या खटल्यांचा प्रारंभ, सर्वप्रथम उच्च न्यायालयातच केला जातो त्याला कोणते अधिकार क्षेत्र म्हणतात ?

- | | |
|---------------------------------------|--|
| (1) प्रारंभिक अधिकार क्षेत्र | (2) पुनर्निर्णयाचे अधिकार क्षेत्र |
| (3) अभिलेख न्यायालयाचे अधिकार क्षेत्र | (4) न्यायिक पुनरावलोकनाचे अधिकार क्षेत्र |

What is the specific jurisdiction of the high court allowing direct submission of a case ?

- | | |
|---------------------------|----------------------------------|
| (1) Original Jurisdiction | (2) Appellate Jurisdiction |
| (3) Record Court | (4) The Power of Judicial Review |

29. 1969 मध्ये राष्ट्रपतींच्या निधनानंतर व त्याचवेळी उपराष्ट्रपतींच्या राजीनाम्यानंतर राष्ट्रपतीचा कार्यभार कोणी स्विकारला ?

- | | |
|-------------------------|-----------------------|
| (1) डॉ. व्ही.व्ही. गिरी | (2) गोपाल स्वरूप पाठक |
| (3) हिदायातुल्लाह | (4) बी.डी. जत्ती |

Who discharged the function of the President of India on the death of a President and resignation of the vice president in 1969 ?

- | | |
|-------------------|-------------------------|
| (1) Dr. V.V. Giri | (2) Gopal Swarup Pathak |
| (3) Hidayatullah | (4) B.D. Jatti |

कच्च्या कामासाठी जागा /SPACE FOR ROUGH WORK

30. खालीलपैकी कोणती समिती पंचायत राज संस्थांशी संबंधित नाही ?

- | | |
|--------------------------|----------------------|
| (1) बलवंतराय मेहता समिती | (2) अशोक मेहता समिती |
| (3) वसंतराव नाईक समिती | (4) राजमन्नार समिती |

Which of the following committees is not related to Panchayat Raj Institutions ?

- | | |
|---------------------------------|---------------------------|
| (1) Balwantraai Mehta Committee | (2) Ashok Mehta Committee |
| (3) Vasanttrao Naik Committee | (4) Rajmannar Committee |

31. कुठल्याही ग्रहाला सूर्याभोवती भ्रमणासाठी लागणाऱ्या वेळेचा वर्ग आणि सूर्यापासूनच्या त्याच्या अंतराचा घन यांचे गुणोत्तर सारखे असते. हा नियम सांगणारा शास्त्रज्ञ कोण ?

- | | | | |
|---------------|-------------|-----------|------------------|
| (1) कोपर्निकस | (2) गॅलिलिओ | (3) केपलर | (4) टॉयको ब्राहे |
|---------------|-------------|-----------|------------------|

Which scientist gave the following rule ? Square of time required to revolve round the sun is proportional to a cube of distance between the sun and a planet, for all the planets.

- | | | | |
|----------------|-------------|------------|-----------------|
| (1) Copernicus | (2) Galileo | (3) Kepler | (4) Tycho Brahe |
|----------------|-------------|------------|-----------------|

32. अवकाश शास्त्राचे जनक कोणाला म्हणतात ?

- | | | | |
|-------------|--------------|---------------|--------------|
| (1) गॅलिलिओ | (2) हिपार्चस | (3) एडवीन हबल | (4) आर्यभट्ट |
|-------------|--------------|---------------|--------------|

Who is regarded as the father of astronomy ?

- | | | | |
|-------------|----------------|------------------|---------------|
| (1) Galileo | (2) Hipparchus | (3) Edwin Hubble | (4) Aryabhata |
|-------------|----------------|------------------|---------------|

33. 'आय.एस.आर.ओ.' या संज्ञेचे विस्तारित नांव काय आहे ?

- | | |
|--|---------------------------------------|
| (1) इंडीयन स्पेस रिसर्च ऑर्गनायझेशन. | (2) इंडीयन सायन्स रिसर्च ऑर्गनायझेशन. |
| (3) इंडीयन स्टॅटिक रिसर्च ऑर्गनायझेशन. | (4) इंडीयन स्कॉलर रिसर्च ऑर्गनायझेशन. |

What is the full form of ISRO ?

- | | |
|---|--|
| (1) Indian Space Research Organisation | (2) Indian Science Research Organisation |
| (3) Indian Static Research Organisation | (4) Indian Scholar Research Organisation |

34. पाण्याचा थेंब गोलाकार होण्याचे शास्त्रीय कारण कोणते ?

- | | |
|---------------------------|--------------------------|
| (1) वातावरणातील हवेचा दाब | (2) वातावरणातील आर्द्रता |
| (3) पाण्यातील पृष्ठताण | (4) गुरुत्वाकर्षण |

What causes a water droplet to become spherical ?

- | | |
|------------------------------|--------------------------|
| (1) Atmospheric air pressure | (2) Atmospheric humidity |
| (3) Surface tension of water | (4) Gravitation |

कच्च्या कामासाठी जागा /SPACE FOR ROUGH WORK

35. खालीलपैकी कोणत्या पदार्थाची घनता सर्वात कमी आहे ?

- (1) पाणी (2) रॉकेल (3) मध (4) ग्लिसरीन

Which of the following materials has lowest density ?

- (1) Water (2) Kerosene (3) Honey (4) Glycerine

36. डब्ल्यू.डब्ल्यू.टि.पी. म्हणजे _____.

- (1) वाईल्ड वर्ल्ड टुरिस्ट प्रोग्रॉम (2) वेस्ट वॉटर ट्रान्सफर प्लान्ट
(3) वेस्ट वॉटर ट्रीटमेंट प्लान्ट (4) वेस्ट वर्ल्ड ट्रान्सफर प्रोग्रॉम

WWTP means :

- (1) Wild World Tourist Programme (2) Waste Water Transfer Plant
(3) Waste Water Treatment Plant (4) Waste World Transfer Programme

37. विद्युत्चुंबकीय वर्णपटातील वेगवेगळ्या तरंगाना त्यांच्या उर्जेच्या उतरत्या क्रमात लावा -

- (अ) रेडीओ लहरी (ब) मायक्रोवेव्ह
(क) गॅमा किरण (ड) क्ष-किरण
(1) (ड), (ब), (क), (अ) (2) (क), (ड), (ब), (अ)
(3) (अ), (ब), (क), (ड) (4) (क), (ब), (ड), (अ)

Arrange different electromagnetic waves of an electromagnetic spectrum in descending order of their energy content :

- (A) Radio waves (B) Microwaves
(C) Gama rays (D) X-rays
(1) (D), (B), (C), (A) (2) (C), (D), (B), (A)
(3) (A), (B), (C), (D) (4) (C), (B), (D), (A)

38. हायड्रोजन बॉम्बचा स्फोट होताना त्यातील हायड्रोजन अणुचे _____ होत असते व त्याचवेळी त्यामधील काही _____ लयास जाते.

- (1) विघटन, वस्तुमान (2) संघटन, उर्जा (3) विघटन, उर्जा (4) संघटन, वस्तुमान

During explosion of hydrogen bomb, hydrogen atoms _____ but simultaneously some _____ disappears.

- (1) Split, mass (2) Fuse, energy (3) Split, energy (4) Fuse, mass

कच्च्या कामासाठी जागा /SPACE FOR ROUGH WORK

39. पहिल्या अति लघुरेडिओ लहरी भट्टीचा शोध कोणी लावला ?

- (1) पर्सी ली बॅरॉन (2) एम. सींगर (3) हेन्री डब्ल्यू. सीली (4) जे. देवार

Who is the inventor of a microwave oven ?

- (1) Percy Le Baron (2) M. Singer (3) Henry W. Seely (4) J. Dewar

40. विज्ञानाच्या वैशिष्ट्यात खालीलपैकी कोणत्या गोष्टींचा अंतर्भाव होऊ शकत नाही ?

- (1) सामान्यीकरण (2) व्यवस्थीकरण
(3) अनुभवप्रामाण्य (4) अतिद्रिय सत्याचा शोध

Which of the following things cannot be included in the characteristics of science ?

- (1) Generalization (2) Proper arrangement
(3) Experience as proof (4) Discovery of super sensus truth

41. अतिशय अल्प कालावधी अचूकतेने मोजण्यासाठी काय वापरतात ?

- (1) साधे घड्याळ (2) आण्विक घड्याळ
(3) क्वॉर्ट्झ घड्याळ (4) मायक्रो घड्याळ

What is used to measure minutest time with precision ?

- (1) Simple clock (2) Atomic clock
(3) Quartz clock (4) Micro clock

42. 'रोबोटिक्स' या संज्ञेचा शोध लावणाऱ्या शास्त्रज्ञाचे नांव काय ?

- (1) इसॅक एसीमोव्ह (2) अलबर्ट आइनस्टाईन
(3) सर अॅलेक्झांडर (4) फ्लेमिंग

Name the scientist who coined the term 'Robotics'.

- (1) Issac Assimov (2) Albert Einstein
(3) Sir Alexander (4) Fleming

कच्च्या कामासाठी जागा /SPACE FOR ROUGH WORK

43. सूर्यापासून येणाऱ्या अतिनील किरणांपासून मानवाचे संरक्षण वातावरणातील _____ वायुच्या थरामुळे होते.

- (1) ऑक्सिजन (2) कार्बन मोनॉक्साइड
(3) नायट्रोजन (4) ओझोन

Human beings are protected from ultraviolet radiations of the Sun due to _____ layer in the atmosphere.

- (1) Oxygen (2) Carbon-monoxide
(3) Nitrogen (4) Ozone

44. एखाद्या वस्तुचा वेग तिप्पट केल्यास त्याची गतीज उर्जा _____ पटीने वाढते.

- (1) तीन (2) सहा (3) नऊ (4) सत्तावीस

If velocity of object is increased three times, its kinetic energy increases _____ times.

- (1) Three (2) Six (3) Nine (4) Twenty-seven

45. क्रायोजेनिक इंजिनचा वापर _____ यामध्ये करतात.

- (1) सब मरीन प्रपल्शन (sub-marine propulsion)
(2) फ्रॉस्ट फ्री रेफ्रीजरेटर (frost-free refrigerator)
(3) रॉकेट तंत्रज्ञान (rocket technology)
(4) अतिवाहकता (superconductivity)

Cryogenic engines find applications in _____.

- (1) Sub-marine propulsion (2) Frost-free refrigerators
(3) Rocket technology (4) Superconductivity

46. एक अँगस्ट्रॉम युनिट म्हणजे किती नॅनोमीटर?

- (1) 1 nm (2) 0.1 nm (3) 0.01 nm (4) 0.001 nm

One Angstrom unit is equal to how many nanometers :

- (1) 1 nm (2) 0.1 nm (3) 0.01 nm (4) 0.001 nm

कच्च्या कामासाठी जागा /SPACE FOR ROUGH WORK

47. खालील विधानांवर विचार करा -

विधान 1 : आजच्या आधुनिक युगातही समाजावरील अवैज्ञानिक गोष्टींचा प्रभाव फारसा कमी झालेला नाही.

विधान 2 : औद्योगिककरणामुळे माणसाची सामाजिक सुरक्षा वाढली.

आता सांगा :

- (1) विधान 1 बरोबर, विधान 2 चूक
- (2) विधान 1 चूक, विधान 2 बरोबर
- (3) दोन्ही विधाने बरोबर
- (4) दोन्ही विधाने चूक

Consider the following statements :

Statement 1 : Even in today's modern age the influence of unscientific temper on society has not been reduced as much.

Statement 2 : Industrialization has increased social security.

Now state whether :

- (1) Statement 1 is right, Statement 2 is wrong
- (2) Statement 1 is wrong, Statement 2 is right
- (3) Both statements are right
- (4) Both statements are wrong

48. लाल, हिरवा, पिवळा व निळा हे प्रकाश किरण त्यांच्या तरंगलांबीच्या चढत्या क्रमात लावा -

- | | |
|-----------------------------|-----------------------------|
| (1) निळा, पिवळा, हिरवा, लाल | (2) लाल, पिवळा, हिरवा, निळा |
| (3) निळा, हिरवा, पिवळा, लाल | (4) हिरवा, पिवळा, लाल, निळा |

Arrange Red, Green, Yellow and Blue light rays in ascending order of their wavelengths.

- | | |
|------------------------------|------------------------------|
| (1) Blue, Yellow, Green, Red | (2) Red, Yellow, Green, Blue |
| (3) Blue, Green, Yellow, Red | (4) Green, Yellow, Red, Blue |

49. 'गायगर काउंटर' हे उपकरण _____ मोजण्यासाठी वापरले जाते.

- | | |
|--------------------|------------------|
| (1) हवेतील प्रदूषण | (2) पाणी प्रदूषण |
| (3) भूकंप-मापन | (4) किरणोत्सार |

'Geiger counter' is used to measure _____.

- | | |
|-------------------------|----------------------------|
| (1) Air pollution | (2) Water pollution |
| (3) Seismic measurement | (4) Radioactive radiations |

कच्च्या कामासाठी जागा /SPACE FOR ROUGH WORK

50. मानवी मेंदूचे वजन साधारणतः किती असते ?

- (1) 900 ग्रॅम (2) 1350 ग्रॅम (3) 1550 ग्रॅम (4) 1650 ग्रॅम

What is the average weight of an adult human brain ?

- (1) 900 gms (2) 1350 gms (3) 1550 gms (4) 1650 gms

51. एखाद्या साध्या लंबकाची लांबी तीनपट केल्यास त्याचा आवर्तन काळ _____ पटीने वाढेल.

- (1) तीन (2) $\sqrt{3}$ (3) $\sqrt{6}$ (4) $2\sqrt{3}$

If a length of simple pendulum is increased three times its original length, the period of pendulum increases _____ times.

- (1) 3 (2) $\sqrt{3}$ (3) $\sqrt{6}$ (4) $2\sqrt{3}$

52. वैज्ञानिक पद्धतीत येणाऱ्या सहा अवस्थांचा योग्य क्रम लावा -

- (अ) अभ्युपगम (ब) पुर्वकथन
 (क) वर्गीकरण (ड) माहितीची जमवाजमव
 (ई) समस्येची मांडणी (फ) सामान्यीकरण
 (1) (ई), (ड), (क), (अ), (फ), (ब) (2) (ब), (ड), (ई), (अ), (क), (फ)
 (3) (अ), (ड), (ई), (क), (फ), (ब) (4) (ब), (अ), (ई), (ड), (क), (फ)

Arrange the steps involved in scientific methodology in proper order :

- (A) Hypothesis (B) Prediction
 (C) Classification (D) Collection of data
 (E) Presentation of the problem (F) Generalization
 (1) (E), (D), (C), (A), (F), (B) (2) (B), (D), (E), (A), (C), (F)
 (3) (A), (D), (E), (C), (F), (B) (4) (B), (A), (E), (D), (C), (F)

53. 'क्ष-किरण' यंत्राचा शोध विल्यम रोएंटगनने कोणत्या साली लावला ?

- (1) 1885 (2) 1895 (3) 1995 (4) 2005

When was the X-Ray machine invented by William Roentgen ?

- (1) 1885 (2) 1895 (3) 1995 (4) 2005

कच्च्या कामासाठी जागा /SPACE FOR ROUGH WORK

54. ध्वनीची तीव्रता मोजणारे एकक _____ .
 (1) अॅम्पीअर (2) वॉट (3) डेसीबल (4) यापैकी कोणतेही नाही

Unit to measure sound intensity is _____.

- (1) Ampere (2) Watt (3) Decibel (4) None of the above

55. 'क्रायोजेनीक तंत्रज्ञान' खालीलपैकी कशाशी निगडित आहे ?

- (1) न्यूक्लीयर प्रोजेक्ट (2) संगणक
 (3) उपग्रह प्रक्षेपण (4) आण्विक पाणबुडी

'Cryogenic technology' is related to which of the following options ?

- (1) Nuclear project (2) Computers
 (3) Satellite launch (4) Atomic submarine

56. चंद्रावर जाण्यासंबंधीचा प्रथम भारतीय उपक्रम कोणता ?

- (1) चंद्रयान (2) भास्कर - II (3) सुयोज टी - 11 (4) इनसॅट 1-C

Which was the first Indian mission to the moon ?

- (1) Chandrayaan (2) Bhaskar-II (3) Soyuz-T-11 (4) INSAT-1-C

57. सूर्याला आपल्या अक्षाभोवती एक फेरी पूर्ण करण्यासाठी लागणारा वेळ किती असतो ?

- (1) साधारणपणे 24 तास (2) साधारणपणे 11 तास
 (3) साधारणपणे 24 दिवस (4) साधारणपणे 11 दिवस

How much time does Sun take to complete one rotation around its axis ?

- (1) Approximately 24 hours (2) Approximately 11 hours
 (3) Approximately 24 days (4) Approximately 11 days

58. भारताने सहभाग घेतलेली 'न्युक्लीअर न्यू बील्ड 2010 कॉन्फरन्स' चे आयोजन कुठे केले गेले होते ?

- (1) नवी दिल्ली (2) लंडन (3) पॅरिस (4) हाँगकाँग

Recently India took part in 'Nuclear New Build 2010 conference' organized in _____.

- (1) New Delhi (2) London (3) Paris (4) Hong Kong

कच्च्या कामासाठी जागा /SPACE FOR ROUGH WORK

59. विश्व निर्मितीचा 'महास्फोटाचा सिद्धांत' मांडणारा शास्त्रज्ञ कोणता ?

- | | |
|---------------|-----------------------|
| (1) एडविन हबल | (2) अल्बर्ट आइनस्टाइन |
| (3) हमसन | (4) स्टीफन हॉकिंग |

Which scientist proposed the 'Big Bang theory' of birth of Universe ?

- | | |
|------------------|-----------------------|
| (1) Edwin Hubble | (2) Albert Eienstein |
| (3) Humason | (4) Steephan Hawkin's |

60. विद्युत् रोध परस्परांना समांतर जोडले असता परिणामी रोध _____ .

- (1) जोडलेल्या सर्व रोधांपेक्षा कमी असतो
- (2) जोडलेल्या सर्व रोधांपेक्षा जास्त असतो.
- (3) जोडलेल्या सर्व रोधांच्या बेरजेइतका असतो
- (4) जोडलेल्या सर्व रोधांच्या भागाकाराइतका असतो.

When resistances are connected in parallel, resultant resistance is _____ .

- (1) less than all the resistances connected
- (2) more than all the resistances connected
- (3) equal to sum of all the resistances connected
- (4) equal to division of all the resistances connected

61. भारतीय रिझर्व्ह बँकेने कोणत्या रक्कमेच्या नोटा प्लास्टिकच्या नोटा म्हणून चलनात आणावयाचे ठरविले आहे ?

- | | | | |
|---------|----------|----------|-----------|
| (1) ₹ 5 | (2) ₹ 20 | (3) ₹ 10 | (4) ₹ 100 |
|---------|----------|----------|-----------|

Which denomination note in paper is to be replaced by the Reserve Bank of India by plastic ?

- | | | | |
|---------|----------|----------|-----------|
| (1) ₹ 5 | (2) ₹ 20 | (3) ₹ 10 | (4) ₹ 100 |
|---------|----------|----------|-----------|

62. व्युत्पन्न (निर्मित) ठेवीची मात्रा कशावर अवलंबून असते ?

- | | | | |
|--------------------|----------------|---------------|-------------|
| (1) रोखतेचे प्रमाण | (2) तारण वस्तू | (3) अधिकोष दर | (4) रेपो दर |
|--------------------|----------------|---------------|-------------|

On which factor does the quantity of derived deposits depend ?

- | | | | |
|---------------------|----------------|---------------|---------------|
| (1) Liquidity ratio | (2) Securities | (3) Bank rate | (4) Repo rate |
|---------------------|----------------|---------------|---------------|

कच्च्या कामासाठी जागा /SPACE FOR ROUGH WORK

63. महाराष्ट्राची आर्थिक पाहणी 2009-10 नुसार, महाराष्ट्राचे :

- (1) दर डोई उत्पन्न चालू किंमतीनुसार ₹ 54,867 होते.
- (2) स्थूल उत्पन्न ₹ 6,92,749 कोटी होते.
- (3) सप्टेंबर 2009 अखेर बँक ठेवी ₹ 10,36,974 कोटी होत्या
- (4) वरील सर्व

According to the economic survey 2009-10, Maharashtra state has :

- (1) Per capita income of ₹ 54867 (at current prices)
- (2) Gross income of ₹ 6,92,749 crores
- (3) At the end of Sept. 2009, bank deposits of ₹ 10,36,974 crores
- (4) All the above

64. 2007 - 08 मध्ये भारताच्या एकूण आयातीत खालीलपैकी कोणत्या उत्पादनाचा/वस्तूंचा वाटा सर्वात जास्त होता ?

- | | |
|-------------------------|------------------------------|
| (1) उपभोग्य वस्तू | (2) भांडवली वस्तू |
| (3) पेट्रोलियम उत्पादने | (4) निर्यात संबंधीत उत्पादने |

Which of the following products/goods had the largest share in India's total imports in the year 2007-08 ?

- | | |
|------------------------|-----------------------------|
| (1) Consumer goods | (2) Capital goods |
| (3) Petroleum products | (4) Export related products |

65. खालीलपैकी कोणत्या देशांशी भारताने 1990-91 मध्ये 5.6% वरून 2006-07 मध्ये 16.4% पर्यंत निर्यातीत वाढ केली होती ?

- | | |
|-----------------------|---------------------------------|
| (1) जपान, ऑस्ट्रेलिया | (2) तेल उत्पादक राष्ट्रे (ओपेक) |
| (3) युरोपियन संघ | (4) आशियाई विकसनशील राष्ट्रे |

To which of the following countries, India had increased its exports from 5.6% in 1990-91 to 16.4% in 2006-07 ?

- | | |
|--------------------------|----------------------------------|
| (1) Japan, Australia | (2) O P E C |
| (3) (E U) European Union | (4) Developing countries of Asia |

66. 2006 - 07 मध्ये भारताचे एकूण विदेशी कर्ज जी.डी.पी. च्या _____ टक्के होते.

- | | | | |
|----------------|----------------|----------------|----------------|
| (1) 25.2 टक्के | (2) 19.5 टक्के | (3) 10.2 टक्के | (4) 40.6 टक्के |
|----------------|----------------|----------------|----------------|

In 2006-07, India's total external debt was _____ percent of G.D.P.

- | | | | |
|------------------|------------------|------------------|------------------|
| (1) 25.2 percent | (2) 19.5 percent | (3) 10.2 percent | (4) 40.6 percent |
|------------------|------------------|------------------|------------------|

कच्च्या कामासाठी जागा /SPACE FOR ROUGH WORK

67. इंटरनेट बँकींगसाठी उपयोगात असलेले PIN काय आहे ?

- | | |
|-------------------------|---------------------------|
| (1) वैयक्तिक ओळख संख्या | (2) व्यावसायिक ओळख संख्या |
| (3) खाजगी ओळख संख्या | (4) खाजगी चौकशी संख्या |

What is meant by PIN for the use of internet banking ?

- | | |
|------------------------------|----------------------------------|
| (1) Personal Identity Number | (2) Professional Identity Number |
| (3) Private Identity Number | (4) Private Investigation Number |

68. खालीलपैकी कोणत्या ठिकाणी, जागतिक व्यापार संघटनेची मंत्रीपातळीवरील सहावी परिषद घेतली गेली ?

- | | | | |
|--------------|-------------|--------------|--------------|
| (1) हाँगकाँग | (2) उरुग्वे | (3) जिनिव्हा | (4) सिंगापूर |
|--------------|-------------|--------------|--------------|

Where was the sixth Ministerial Conference of the WTO held ?

- | | | | |
|---------------|-------------|------------|---------------|
| (1) Hong Kong | (2) Uruguay | (3) Geneva | (4) Singapore |
|---------------|-------------|------------|---------------|

69. राष्ट्रीय कुटुंब आरोग्य पाहणी - III (2005-06) नुसार महाराष्ट्रातील जननक्षमता दर _____ होता.

- | | | | |
|---------|---------|---------|---------|
| (1) 1.5 | (2) 3.1 | (3) 2.1 | (4) 1.0 |
|---------|---------|---------|---------|

According to National Family Health Survey-III (2005-06), fertility rate in Maharashtra state was _____.

- | | | | |
|---------|---------|---------|---------|
| (1) 1.5 | (2) 3.1 | (3) 2.1 | (4) 1.0 |
|---------|---------|---------|---------|

70. भारताच्या महालेखापालाची नियुक्ती कोणाकडून केली जाते ?

- | | |
|--------------------------|--------------------------------|
| (1) भारताचे पंतप्रधान | (2) भारताचे राष्ट्रपती |
| (3) केंद्रीय वित्तमंत्री | (4) लेखापरिक्षण कार्यालय विभाग |

Who appoints the Accountant General of India ?

- | | |
|--------------------------------|----------------------------|
| (1) Prime Minister of India | (2) President of India |
| (3) Finance Minister of Centre | (4) Department of Auditing |

71. भारतात कंट्रोलर जनरल ऑफ अकॉंट्सच्या कार्यालयाची स्थापना कोणत्या वर्षी झाली ?

- | | | | |
|----------|----------|----------|----------|
| (1) 1976 | (2) 1990 | (3) 2001 | (4) 2005 |
|----------|----------|----------|----------|

When was the office of the Comptroller General of Accounts established in India ?

- | | | | |
|----------|----------|----------|----------|
| (1) 1976 | (2) 1990 | (3) 2001 | (4) 2005 |
|----------|----------|----------|----------|

कच्च्या कामासाठी जागा /SPACE FOR ROUGH WORK

72. सरकारने सुरु केलेली व पुढील वैशिष्ट्ये असणारी योजना कोणती ?

- (i) 65 वर्षे व त्यावरील वयोगटातील व्यक्तींना दरमहा 10 किलो धान्य मोफत दिले जाते.
 - (ii) ज्यांना वृद्धापकालीन निवृत्ती वेतन मिळत नाही, त्यांना मदत.
 - (iii) ज्यांना राज्य निवृत्ती वेतन मिळत नाही त्यांना मदत
 - (iv) पूर्णतः केंद्र सरकार पुरस्कृत
- (1) अंत्योदय अन्न योजना (2) नव संजीवन योजना
(3) सुधारित ग्राम धान्य कोष योजना (4) अन्नपूर्णा योजना

What is the name of the scheme, having the following features ?

- (i) persons aged 65 years and above get free 10 kg food grains per month
 - (ii) individuals who do not get pension, given help
 - (iii) persons who do not receive pension from the state Govt. after retirement get help.
 - (iv) wholly sponsored by the Central Govt.
- (1) Antyodaya Anna Yojana (2) Nav Sanjivan Yojana
(3) Sudharit Gram Dhanya Kosh Yojana (4) Annapurna Yojana

73. खालीलपैकी केंद्रीय अंदाजपत्रक 2010 - 11 चे ठळक वैशिष्ट्य कोणते होते ?

- (1) कृषिक्षेत्रास ₹ 3000 कोटींचे वाटप
- (2) खत अर्थसहाय्य (सबसिडी) कमी करणे
- (3) एप्रिल 2011 पासून प्रत्यक्ष कर संहिता अमलात आणणे.
- (4) यापैकी कोणतेही नाही

Which of the following was the highlight of the Union Budget, 2010-11 ?

- (1) ₹ 3000 crores allotted to agricultural sector
- (2) Fertilizer subsidy reduced
- (3) To implement Direct Tax Code from April 2011
- (4) None of these

74. खालीलपैकी कोणते कार्य, अंदाजपत्रकीय धोरणाचे नाही ?

- (1) मौद्रीकरण (2) विभाजन (3) वितरण (4) स्थायीकरण

Which of the following is not a function of the Budget policy ?

- (1) Monetization (2) Allocation (3) Distribution (4) Stabilization

कच्च्या कामासाठी जागा /SPACE FOR ROUGH WORK

75. UNDP ने 2010 पासून मानव विकास अहवालामध्ये कोणत्या निर्देशांकाचा वापर सुरु केला आहे ?

- (1) General Empowerment Measures (2) Gender Ineqaling Index
(3) General Poverty Index (4) Literacy Ratio

From 2010, UNDP is using _____ criteria for preparing human development report.

- (1) General Empowerment Measures (2) Gender Ineqaling Index
(3) General Poverty Index (4) Literacy ratio

76. खालीलपैकी कोणता चलनवाढीस रोखण्याचा उपाय आहे ?

- (1) लोकसंख्यावाढ (2) आर्थिक विकास
(3) अतिरिक्त तुटीचा अर्थभरणा (4) पैशाच्या पुरवठ्यातील वाढ

Which of the following is the remedy to fight inflation ?

- (1) Population growth (2) Economic development
(3) Excessive deficit financing (4) Increase in money supply

77. युरो (EURO) याचा चलन म्हणून वापर करणाऱ्या देशांची संख्या किती आहे ?

- (1) 15 (2) 20 (3) 10 (4) 14

How many countries use EURO as a currency ?

- (1) 15 (2) 20 (3) 10 (4) 14

78. मार्च 2008 मध्ये भारतातील सार्वजनिक क्षेत्रातील बँकांकडून झालेल्या एकूण कर्जपुरवठ्यात प्राधान्य क्षेत्राला झालेला कर्जपुरवठा किती टक्के होता ?

- (1) 44.6 टक्के (2) 56.4 टक्के (3) 35.6 टक्के (4) 49.2 टक्के

What was the percentage of priority sector lending to total loan by the Indian public sector banks in March 2008 ?

- (1) 44.6 percent (2) 56.4 percent (3) 35.6 percent (4) 49.2 percent

79. राज्य सरकार कोणता कर बसविते व वसूल करते ?

- (1) जकात कर (2) केंद्रीय उत्पादन शुल्क
(3) व्यवसाय कर (4) आयात-निर्यात कर

Which tax is imposed and collected by the state government ?

- (1) Octroi (2) Central excise duty
(3) Tax on profession (4) Custom duties

कच्च्या कामासाठी जागा /SPACE FOR ROUGH WORK

80. मे 1966 मध्ये भारताने रुपयाचे अवमूल्यन किती टक्क्याने केले ?

- (1) 36.5 (2) 20 (3) 50.5 (4) 80

In May, 1966 by what percentage the Indian Government devaluated the Indian rupee ?

- (1) 36.5 (2) 20 (3) 50.5 (4) 80

81. 2008 मध्ये जागतिक निर्यातीत भारताचा वाटा किती होता ?

- (1) 1.1 टक्के (2) 2.1 टक्के (3) 5.2 टक्के (4) 1.7 टक्के

What was India's share in the world exports in the year 2008 ?

- (1) 1.1 percent (2) 2.1 percent (3) 5.2 percent (4) 1.7 percent

82. कोणत्या समितीने भाववाढ मोजतांना ठोक किंमत निर्देशांक (WPI) काढण्यासाठी आधारवर्ष बदलण्याची शिफारस केली ?

- (1) रस्तोगी समिती (2) अभिजीत सेन समिती
(3) केळकर समिती (4) नरसिंहम समिती

Which committee has recommended changing of the base year for calculating the Wholesale Price Index (WPI) to measure the inflation ?

- (1) Rastogi Committee (2) Abhijit Sen Committee
(3) Kelkar Committee (4) Narsimham Committee

83. महसुली अंदाजपत्रकात त्याच बाबींचा समावेश होतो की ज्या _____ असतात.

- (1) आवर्ती स्वरूपाच्या (2) अनावर्ती स्वरूपाच्या
(3) भांडवली स्वरूपाच्या (4) वरील सर्व

Revenue budget covers those items which are of _____.

- (1) Recurring nature (2) Non-recurring nature
(3) Capital nature (4) All the above

84. खालीलपैकी विकेंद्रीत योजनेचे गुण कोणते आहेत ?

- (1) कार्यक्षमता (2) लवचिकता
(3) लोकांचा सहभाग (4) वरील सर्व

Which of the following are the merits of decentralised planning ?

- (1) Efficiency (2) Flexibility
(3) Public Participation (4) All the above

कच्च्या कामासाठी जागा /SPACE FOR ROUGH WORK

85. खालीलपैकी कोणत्या विकासक्षेत्राचा दहाव्या पंचवार्षिक योजनेच्या खर्चवाटपामध्ये सर्वाधिक हिस्सा होता ?

- | | |
|-------------------|--------------------|
| (1) ग्रामीण विकास | (2) उद्योग व खनिजे |
| (3) उर्जा | (4) सामाजिक सेवा |

Which of the following development heads had the highest share of public outlay of the tenth five year plan ?

- | | |
|-----------------------|---------------------------|
| (1) Rural Development | (2) Industry and Minerals |
| (3) Energy | (4) Social Services |

86. रिझर्व्ह बँकेने जाहीर केलेल्या पतधोरणाची वैशिष्ट्ये :

- (अ) सी आर आर दर 4.5%
 (ब) रेपो दर 8%
 (क) रिव्हर्स रेपो दर 7%
 (ड) बाजारपेठेत ₹ 17,000 कोटी पर्यंत वित्तपुरवठ्यात वाढ.

पर्यायी उत्तरे :

- | | |
|-------------------|------------------------|
| (1) (अ), (ब), (क) | (2) (ब), (क), (ड) |
| (3) (क), (ड), (अ) | (4) (ड), (क), (ब), (अ) |

What are the features of credit policy declared by the RBI ?

- (A) CRR rate 4.5%
 (B) Repo rate 8%
 (C) Reverse repo rate 7%
 (D) ₹ 17, 000 crores will avail in credit market

Answer options :

- | | |
|-------------------|------------------------|
| (1) (A), (B), (C) | (2) (B), (C), (D) |
| (3) (C), (D), (A) | (4) (D), (C), (B), (A) |

87. खालीलपैकी कोणते धोरण भारतीय रिझर्व्ह बँकेचे आहे ?

- | | |
|------------------|-------------------|
| (1) मौद्रिक धोरण | (2) राजकोषीय धोरण |
| (3) आर्थिक धोरण | (4) शैक्षणिक धोरण |

Which of the following is the policy of the Reserve Bank of India ?

- | | |
|---------------------|----------------------|
| (1) Monetary Policy | (2) Fiscal Policy |
| (3) Economic Policy | (4) Education Policy |

कच्च्या कामासाठी जागा /SPACE FOR ROUGH WORK

88. बॅसेल 3 - च्या प्रमुख तरतुदी पुढील प्रमाणे :

- (अ) बँकेने भांडवलाचे एकूण प्रमाण आपल्या व्यवसायाच्या 5.5% पर्यंत 31 मार्च 2015 अखेर वाढवावयाचे आहे.
- (ब) बँकेने पर्याप्त भांडवलाचे प्रमाण 11.5% पर्यंत 31 मार्च 2018 अखेर न्यावयाचे आहे.
- (क) बँकेच्या कर्जासाठी/गुंतवणूकीसाठी भिन्न जोखिम भारांक असेल.
- (ड) भिन्न जोखिम भारांक हा 2% पेक्षा कमी असणार नाही.

पर्यायी उत्तरे :

- (1) (ड), (ब), (अ) (2) (ड), (क), (ब) (3) (ड), (अ), (ब) (4) (क), (ब), (अ)

Basel 3 - main provisions are

- (A) Bank should raise its capital ratio upto 5.5% of its total turnover upto 31 March 2015.
- (B) Bank should raise its capital adequacy ratio up to 11.5% until 31 March 2018.
- (C) There should be differential risk weightage for banks investment or loan.
- (D) Differential risk weightage should not be less than 2%

Answer options :

- (1) (D), (B), (A) (2) (D), (C), (B) (3) (D), (A), (B) (4) (C), (B), (A)

89. शेअर्समध्ये गुंतवणूक करणाऱ्या वर्गावर स्फीतीचा कसा परिणाम होतो ?

- (1) अनुकूल (2) प्रतिकूल (3) नगण्य (4) यापैकी कोणतेच नाही

What is the effect of inflation on the share investors class ?

- (1) Favourable (2) Unfavourable (3) Negligible (4) None of these

90. खालीलपैकी कोणत्या वर्षी 14 प्रमुख खाजगी व्यापारी बँकांचे राष्ट्रीयकरण झाले ?

- (1) 1951 (2) 1969 (3) 1991 (4) 1995

When were the 14 major private commercial banks nationalised ?

- (1) 1951 (2) 1969 (3) 1991 (4) 1995

कच्च्या कामासाठी जागा /SPACE FOR ROUGH WORK

91. $\frac{Y \text{ (पिकाचे उत्पन्न)}}{ET \text{ (बाष्पिभवन + उत्सर्जन)}} = \underline{\hspace{2cm}}$

- (1) सिंचन क्षमता (2) पाणी क्षमता
(3) पाणी उपयोग क्षमता (4) वरीलपैकी कोणतेही नाही

$\frac{Y}{ET} = \underline{\hspace{2cm}}$

Where, Y is crop yield, ET is evapotranspiration ?

- (1) Irrigation efficiency (2) Water efficiency
(3) Water use efficiency (4) None of the above

92. खाली दिलेल्या अन्नधान्यांपैकी _____ दाण्यांमध्ये सर्वात कमी प्रथीने असतात.

- (1) गहू (2) मका (3) तांदुळ (4) बारली

Among the following cereals, _____ grains contain the lowest proteins.

- (1) Wheat (2) Maize (3) Rice (4) Barley

93. महाराष्ट्रात 'संत तुकाराम वन ग्राम योजना' _____ मध्ये सुरु करण्यात आली.

- (1) 2000-01 (2) 2004-05 (3) 2005-06 (4) 2006-07

In which year was the 'Sant Tukaram Vana-Gram Yojana', started in Maharashtra ?

- (1) 2000-01 (2) 2004-05 (3) 2005-06 (4) 2006-07

94. सन 1996 - 97 साली असणाऱ्या 197 दशलक्ष टन अन्नधान्याच्या गरजेच्या तुलनेने सन 2011 - 2012 साली अन्नधान्याची गरज किती दशलक्ष टन असेल ?

- (1) 225 (2) 260 (3) 298 (4) 325

How much demand for food grains, for consumption, in million tonnes would there be in 2011-2012 compared to that of 197 million tonnes during 1996-97 ?

- (1) 225 (2) 260 (3) 298 (4) 325

कच्च्या कामासाठी जागा /SPACE FOR ROUGH WORK

95. अती पावसाच्या क्षेत्रात लोकप्रिय असलेल्या डांगी जातीचे निर्मिती स्थळ म्हणजे _____ जिल्हे.

- | | |
|-----------------------|-----------------------------|
| (1) ठाणे आणि रायगड | (2) रायगड आणि रत्नागिरी |
| (3) अहमदनगर आणि नाशिक | (4) रत्नागिरी आणि कोल्हापूर |

The home districts of Dangi breed popular in heavy rainfall tracts are _____ districts.

- | | |
|---------------------------|----------------------------|
| (1) Thane and Raigad | (2) Raigad and Ratnagiri |
| (3) Ahmadnagar and Nashik | (4) Ratnagiri and Kolhapur |

96. कोणते मासे पाण्याच्या मधल्या थरात असतात ?

- | | | | |
|----------|----------|----------|--------------------------|
| (1) कटला | (2) रोहू | (3) मृगल | (4) गवत्या (ग्रास कार्प) |
|----------|----------|----------|--------------------------|

Which fish is seen in the middle layer of water ?

- | | | | |
|------------|----------|------------|----------------|
| (1) Katala | (2) Rohu | (3) Mrigal | (4) Grass carp |
|------------|----------|------------|----------------|

97. जमिनीच्या क्षमतेनुसार केलेल्या वर्गीकरणप्रमाणे, वर्ग _____ मधील जमीन फक्त मनोरंजन, वन्य जीव आणि सौंदर्यानुभवाच्या कार्यासाठी वापरात येऊ शकते.

- | | | | |
|----------|--------|--------|-------|
| (1) VIII | (2) VI | (3) IV | (4) V |
|----------|--------|--------|-------|

As per land capability classification, areas of class _____ can be used only for recreation, wild life and aesthetic purpose.

- | | | | |
|----------|--------|--------|-------|
| (1) VIII | (2) VI | (3) IV | (4) V |
|----------|--------|--------|-------|

98. गोदावरी, कृष्णा व इतर दक्षिणेकडील नद्यांचा वार्षिक सरासरी उपयुक्त प्रवाह (दशलक्ष हे.मी.) _____ आहे.

- | | | | |
|--------|--------|-------|--------|
| (1) 19 | (2) 25 | (3) 9 | (4) 15 |
|--------|--------|-------|--------|

The average annual utilizable flow (M ha m) of Godavari, Krishna and other rivers in south is _____.

- | | | | |
|--------|--------|-------|--------|
| (1) 19 | (2) 25 | (3) 9 | (4) 15 |
|--------|--------|-------|--------|

99. जमिनीच्या धुपीच्या कोणत्या प्रकारला प्रारंभीची धुप म्हणतात ?

- | | | | |
|----------------|---------------|-----------------|---------------------|
| (1) घळकाढी धुप | (2) नळीची धुप | (3) सालकाढी धुप | (4) मोठी घळकाढी धुप |
|----------------|---------------|-----------------|---------------------|

Which type of soil erosion is called as initial stage of soil erosion ?

- | | | | |
|-------------------|------------------|-------------------|-------------|
| (1) Gully erosion | (2) Rill erosion | (3) Sheet erosion | (4) Ravines |
|-------------------|------------------|-------------------|-------------|

कच्च्या कामासाठी जागा /SPACE FOR ROUGH WORK

100. खालीलपैकी कोणते पीक जमिनीची धुप थांबविण्यासाठी कार्यक्षम आणि योग्य आहे ?

- (1) ज्वारी (2) मका (3) कापूस (4) भुईमुग

Which of the following crops is efficient and suitable for checking soil erosion ?

- (1) Sorghum (2) Maize (3) Cotton (4) Groundnut

101. 'राष्ट्रीय कृषि विमा योजना' आपल्या राज्यात _____ साली सुरु झाली.

- (1) 2007 - 08 (2) 2005 - 06 (3) 1990 - 91 (4) 1999 - 2000

When was 'Rastriya Krushi Vima Yojana', started in our State ?

- (1) 2007-08 (2) 2005-06 (3) 1990-91 (4) 1999-2000

102. परावर्तित पेनमन सिद्धांत कोणता ?

- (1) $\sum \frac{k.t.F}{100}$ (2) $1.6 (10 t/I)^a$
 (3) $W.Rt + (1 - W) + f_{(u)} (e_a - e_d)$ (4) $W.Rn + (1 - W) \cdot f_{(u)} (e_a - e_d)$

What is the Modified Penman formula ?

- (1) $\sum \frac{k.t.F}{100}$ (2) $1.6 (10 t/I)^a$
 (3) $W.Rt + (1 - W) + f_{(u)} (e_a - e_d)$ (4) $W.Rn + (1 - W) \cdot f_{(u)} (e_a - e_d)$

103. राष्ट्रीय मत्स्य क्षेत्र विकास मंडळ (NFDB) मुख्यालय कोठे आहे ?

- (1) नवी दिल्ली (2) हैद्राबाद (3) पुणे (4) कोचीन

Where are the headquarters of the (NFDB) 'National Fisheries Development Board' located ?

- (1) New Delhi (2) Hyderabad (3) Pune (4) Cochin

104. शासन खर्चाचा वापर आणि महसूली उत्पन्नासाठीचा कार्यक्रम यांचा मुख्य उपयोग भरपूर रोजगार निर्माती आणि किंमती स्थिर ठेवणे या महत्त्वाच्या उद्देशपूर्तीसाठी केला जातो, त्याला काय म्हणतात ?

- (1) रोजकोषिय धोरण (2) मुद्रा धोरण
 (3) महसूली धोरण (4) वरीलपैकी कोणतेही नाही

The use of Government's spending and revenue producing activities in order to achieve specific objectives of full employment with price stability refers to _____.

- (1) Fiscal policy (2) Money policy
 (3) Revenue policy (4) None of these

कच्च्या कामासाठी जागा /SPACE FOR ROUGH WORK

105. मासळीच्या खतात किती नत्र असते ?

- (1) 5 ते 8 टक्के (2) 0.5 ते 1.0 टक्के
(3) 10 ते 15 टक्के (4) 0.05 ते 0.1 टक्के

What is the nitrogen content of fish manure ?

- (1) 5 to 8 percent (2) 0.5 to 1.0 percent
(3) 10 to 15 percent (4) 0.05 to 0.1 percent

106. नारळाच्या कोणत्या जातीत खोबऱ्यामधील तेलचे प्रमाण अधिक आहे ?

- (1) फिलीपाईन ऑर्डिनरी (2) बाणवली
(3) लक्षद्वीप ऑर्डिनरी (4) टि×डी.

Which variety of coconut has higher oil content ?

- (1) Philippine ordinary (2) Banavali (West Cost Tall)
(3) Laxdwip ordinary (4) TXD

107. भारतामध्ये जमिनीच्या धुपेमुळे प्रतिवर्षी अंदाजे _____ टन प्र.हे. माती वाहून जाते.

- (1) 11.0 (2) 16.35 (3) 20.0 (4) 35.21

The estimated soil erosion loss taking place in India is _____ t/ha annually.

- (1) 11.0 (2) 16.35 (3) 20.0 (4) 35.21

108. कोणत्या प्रकारचे पर्यावरणीय बदल हे एकाच प्रकारातील एका प्राण्यामधून दुसऱ्या प्राण्यामध्ये स्थिर होतात ?

- (1) रँडम/अहेतुपूर्वक घडलेले (2) नॉन रँडम/हेतुपूर्वक घडलेले
(3) जनुकीय (4) अनुवंशीय

Which environmental variations are constant from one animal to the next in the same group ?

- (1) Random (2) Non random
(3) Genotypic (4) Genetical

109. जिप्सम ब्लॉक्स द्वारे जमिनीतील पाणी कोणत्या यूनिट मध्ये मोजले जाते ?

- (1) व्होल्ट (2) सेल्सीअस (3) ओहम (4) वरीलपैकी कोणत्याही नाही

Soil moisture content measured through Gypsum blocks is expressed in which unit ?

- (1) Volt (2) Celcius (3) Ohms (4) None of the above

कच्च्या कामासाठी जागा /SPACE FOR ROUGH WORK

110. उत्पन्न खर्च गुणोत्तर = _____.

(1) $\frac{\text{एकूण उत्पन्न (₹)}}{\text{उत्पादनावरील एकूण खर्च (₹)}}$

(2) $\frac{\text{एकूण उत्पन्न (₹)}}{\text{प्रति हेक्टरी उत्पादनावरील खर्च (₹)}}$

(3) $\frac{\text{एकूण उत्पन्न (₹)}}{\text{प्रति क्विंटल उत्पादन खर्च (₹)}}$

(4) $\frac{\text{एकूण उत्पादन (₹)}}{\text{मुख्य उत्पादनाची किंमत (₹)}}$

Benefit-cost ratio = _____.

(1) $\frac{\text{Total income (₹)}}{\text{Total expenditure in production (₹)}}$

(2) $\frac{\text{Total income (₹)}}{\text{Production expenditure per hectare (₹)}}$

(3) $\frac{\text{Total income (₹)}}{\text{Production expenditure per quintal (₹)}}$

(4) $\frac{\text{Total income (₹)}}{\text{Cost of main produce (₹)}}$

111. सिताफळ हे पीक कोणत्या कृषिहवामान (ऑग्रोक्लायमेटिक) क्षेत्रात मोडते ?

- (1) समशितोष्ण (2) कोरडे/अंशतःकोरडे
(3) उप उष्णकटिबंधीय (4) उष्ण कटिबंधीय

To which agroclimatic zone custard apple is categorised ?

- (1) Temperate (2) Arid/semi arid (3) Sub tropical (4) Tropical

कच्च्या कामासाठी जागा /SPACE FOR ROUGH WORK

112. खालीलपैकी कोणती शाखा उद्यान विद्या विषयाशी निगडीत नाही ?

- (1) पोमॉलॉजी (2) फ्लोरीकल्चर (3) टिश्यूकल्चर (4) ओलरीकल्चर

Which of the following is not a branch of Horticulture ?

- (1) Pomology (2) Floriculture (3) Tissue culture (4) Olericulture

113. खालीलपैकी कोणती जोडी चुकीची आहे ?

(अ)

(ब)

- (1) आंबा तुडतुडे
 (2) नारळ कोंबकुज
 (3) काजू रोठा
 (4) भात खोड पोखरणारा भुंगा

Identify the wrong pair :

(A)

(B)

- (1) Mango Hopper
 (2) Coconut Bud rot
 (3) Cashew Root and shoot borer
 (4) Rice Steam borer bittle

114. भात पिकाचा उगम कोणत्या देशात झाला ?

- (1) चीन (2) ब्राझिल (3) भारत (4) इंडोनेशीया

In which country was the rice first cultivated ?

- (1) China (2) Brazil (3) India (4) Indonesia

115. महाराष्ट्रात कोणत्या पिकात कंत्राटी/करार शेतीचा अवलंब केला जातो ?

- (1) भात (2) द्राक्ष (3) बटाटा (4) आंबा

Contract farming is adopted for which crop in Maharashtra ?

- (1) Rice (2) Grapes (3) Potato (4) Mango

116. 'श्री' (एस.आर.आय) भात लागवडीची पद्धत कोणत्या देशातून प्रसारित झाली ?

- (1) अमेरिका (2) स्वित्झर्लंड (3) मादागास्कर (4) द. आफ्रिका

In which country SRI technique of rice cultivation got evolved ?

- (1) America (2) Switzerland (3) Madagascar (4) S. Africa

कच्च्या कामासाठी जागा /SPACE FOR ROUGH WORK

117. खालीलपैकी कोणती केळीची जात आहे ?

- (1) केशर (2) नेद्रन (3) उमरान (4) राजापूरी

Which of the following is a variety of Banana ?

- (1) Kesar (2) Nendran (3) Umran (4) Rajapuri

118. अधिक दुध देणारी भारतीय गायीची जात कोणती ?

- (1) जर्सी (2) गीर (3) रेड सींधी (4) कांकरेज

Which is the high milk yielding Indian cow breed ?

- (1) Jersey (2) Geer (3) Red-Shindhi (4) Kankarage

119. महाराष्ट्रातील हिरव्या रंगाचे हरभऱ्याचे वाण कोणते ?

- (1) विजय - हिरवा (2) डी - 8 (3) हिरवा विराट (4) हिरवा चाफा

Which is the green coloured gram variety from Maharashtra ?

- (1) Vijay - Hirwa (2) D-8 (3) Hirwa Virat (4) Hirwa Chafa

120. वनांच्या वर्गीकरणाच्या आधारे (चॅम्पियन आणि सेठ, 1968) भारतामध्ये एकूण वनांचे महत्वाचे प्रकार किती ?

- (1) 18 (2) 20 (3) 16 (4) 22

As per the (Champion and Seth-1968) classification of forests how many important forest types are there in India ?

- (1) 18 (2) 20 (3) 16 (4) 22

121. डिसेंबर 2011 मध्ये खालीलपैकी कोणी महाराष्ट्र केसरी हा कुस्तीमधील प्रतिष्ठेचा पुरस्कार मिळविला ?

- (1) नरसिंह यादव (2) अतुल पाटील
(3) खाशाबा जाधव (4) चंद्रहार पाटील

Who won the prestigious Maharashtra Kesari Award for wrestling in December 2011 ?

- (1) Narsinha Yadav (2) Atul Patil
(3) Khashaba Jadhav (4) Chandrahar Patil

कच्च्या कामासाठी जागा /SPACE FOR ROUGH WORK

122. भारतीय आर्थिक परिषदेच्या अध्यक्षपदी सन 2012 या वर्षी कोणाची निवड झाली ?

- | | |
|----------------------|--------------------------|
| (1) डॉ. नरेंद्र जाधव | (2) सी. रंगराजन |
| (3) डॉ. मनमोहनसिंग | (4) डॉ. भालचंद्र मुणगेकर |

Who has become the President of Indian Economic Association in 2012 ?

- | | |
|------------------------|------------------------------|
| (1) Narendra Jadhav | (2) C. Rangrajan |
| (3) Dr. Manmohan Singh | (4) Dr. Bhalchandra Mungekar |

123. ऑक्टोबर 2009 मध्ये _____ हा राष्ट्रीय जलचर प्राणी असल्याचे भारत सरकारने घोषित केले.

- | | | | |
|----------------|------------|-----------|---------------|
| (1) शार्क मासा | (2) डॉलफीन | (3) व्हेल | (4) स्टार फीश |
|----------------|------------|-----------|---------------|

In October 2009, _____ was declared as the National aquatic animal by the Govt. of India.

- | | | | |
|----------------|-------------|-----------|---------------|
| (1) Shark Fish | (2) Dolphin | (3) Whale | (4) Star Fish |
|----------------|-------------|-----------|---------------|

124. अखिल भारतीय मराठी चित्रपट मंडळाच्या वतीने प्रतिवर्षी देण्यात येणाऱ्या चित्रभूषण पुरस्कारासाठी जून 2011 मध्ये कोणाची निवड करण्यात आली ?

- | | |
|-----------------------|----------------|
| (1) सुबल सरकार | (2) सरोज खान |
| (3) भालचंद्र पेंढारकर | (4) वसंत पेंटर |

Who was selected for the Chitrabhushan Award in June 2011, which is given every year by the Akhil Bharatiya Marathi Chitrapat Mandal ?

- | | |
|----------------------------|-------------------|
| (1) Subal Sarkar | (2) Saroj Khan |
| (3) Bhalchandra Pendharkar | (4) Vasant Penter |

125. जून 2011 मध्ये 30 हजार मीटर धावण्याच्या स्पर्धेत गेली तीस वर्षे अबाधित राहिलेला विक्रम केनियाच्या _____ याने क्लासिक डायमंड स्पर्धेत मोडला.

- | | | | |
|-----------------|--------------------|------------------|----------------|
| (1) मोझेस मोसोप | (2) अग्नेस केप्रॉस | (3) डेरेस चिम्सा | (4) पी.टी. उषा |
|-----------------|--------------------|------------------|----------------|

In June 2011 _____ from Keniya broke the 30 year record in 30 thousand meter running in Classic Diamond League competition :

- | | | | |
|-----------------|------------------|------------------|---------------|
| (1) Mozes Mosop | (2) Agnes Keprop | (3) Deres Chimsa | (4) P.T. Usha |
|-----------------|------------------|------------------|---------------|

कच्च्या कामासाठी जागा /SPACE FOR ROUGH WORK

126. हल्ली इंटरनेट मार्फत होणाऱ्या गैरव्यवहारांवर आळा घालण्यासाठी केंद्र सरकार लवकरच _____ ची निर्मिती करणार आहे ?

- (1) नेशनल सायबर को-ऑर्डिनेशन सेंटर
- (2) इंटरनॅशनल सायबर को-ऑर्डिनेशन सेंटर
- (3) स्टेट सायबर को-ऑर्डिनेशन सेंटर
- (4) मल्टीपर्पज सायबर को-ऑर्डिनेशन सेंटर

The Central Government is going to set up _____ to check the misuse of internet in anti social activities :

- (1) National cyber co-ordination centre
- (2) International cyber co-ordination centre
- (3) State cyber co-ordination centre
- (4) Multi purpose cyber co-ordination centre

127. 'निर्मल ग्राम' पुरस्कार _____ कडून दिला जातो.

- | | |
|------------------|------------------|
| (1) केन्द्र शासन | (2) राज्य शासन |
| (3) जिल्हा परिषद | (4) पंचायत समिती |

'Nirmal Gram' award is given by _____.

- | | |
|------------------------|----------------------|
| (1) Central Government | (2) State Government |
| (3) Zilla Parishad | (4) Panchayat Samiti |

128. अन्न सुरक्षा विधेयकास केन्द्रीय मंत्रीमंडळाने _____ या तारखेस मंजूरी दिली.

- | | |
|---------------------|-----------------------|
| (1) 19 डिसेंबर 2011 | (2) 18 डिसेंबर 2011 |
| (3) 2 जानेवारी 2012 | (4) 1 फेब्रुवारी 2012 |

The Food Security Bill was passed by the central cabinet on _____.

- | | |
|------------------------------------|------------------------------------|
| (1) 19 th December 2011 | (2) 18 th December 2011 |
| (3) 2 nd January 2012 | (4) 1 st February 2012 |

कच्च्या कामासाठी जागा /SPACE FOR ROUGH WORK

129. खालीलपैकी कोणते पुस्तक डॉ. अ.पी.जे. अब्दुल कलाम यांनी लिहिलेले नाही ?

- (1) टर्निंग पॉइंट
- (2) विंग्ज ऑफ फायर
- (3) इंदिरा गांधीज् इमरजन्सी अँड इंडियाज् डेमॉक्रसी
- (4) इनव्हिझनिंग अँ एम्पावर्ड नेशन

Which book has not been written by Dr. A.P.J. Abdul Kalam ?

- (1) Turning Point
- (2) Wings of Fire
- (3) Indira Gandhi's Emergency and India's Democracy
- (4) Envisioning an Empowered Nation

130. महाराष्ट्र राज्य निवडणुक आयोगाचे नवे अद्यावत संकेत स्थळ खालीलपैकी कोणते आहे ?

- (1) www.mahasec.com
- (2) www.mahaelec.com
- (3) www.mahacomm.com
- (4) www.mahastate.com

New updated website of Maharashtra state election commission is _____.

- (1) www.mahasec.com
- (2) www.mahaelec.com
- (3) www.mahacomm.com
- (4) www.mahastate.com

131. 'Noida' या संस्थेचे पूर्ण नाव लिहा :

- (1) नार्दन ओरिसा औद्योगिक विकास प्राधिकरण
- (2) नवीन ओखला औद्योगिक विकास प्राधिकरण
- (3) नवीन ओखला औद्योगिक विकास संस्था
- (4) नॉर्थ ओखला औद्योगिक विकास प्राधिकरण

Give the correct full form of 'Noida' :

- (1) Northern Orissa Industrial Development Authority
- (2) New Okhla Industrial Development Authority
- (3) New Okhla Industrial Development Agency
- (4) North Okhla Industrial Development Authority

132. सन 2010 मधील सर्वेक्षणानुसार शाळेत जाणाऱ्या मुलांमध्ये सर्वात कमी सरासरी कोणत्या देशाची आहे ?

- (1) भारत
- (2) चीन
- (3) इंडोनेशिया
- (4) थायलंड

Which country records the lowest average rate for school going children as per survey in 2010 ?

- (1) India
- (2) China
- (3) Indonesia
- (4) Thailand

कच्च्या कामासाठी जागा /SPACE FOR ROUGH WORK

133. भारतात महात्मा गांधी राष्ट्रीय ग्रामीण रोजगार हमी योजना केव्हापासुन लागू झाली ?

- (1) 2 फेब्रुवारी 2006 (2) 2 फेब्रुवारी 2005
(3) 20 फेब्रुवारी 2006 (4) 2 ऑक्टोबर 2007

Since when has Mahatma Gandhi National Rural employment guarantee scheme begun in India ?

- (1) 2nd February 2006 (2) 2nd February 2005
(3) 20 February 2006 (4) 2nd October 2007

134. भारतातील पहिले महिला न्यायालय कोणत्या राज्यात आहे ?

- (1) महाराष्ट्र (2) आंध्रप्रदेश (3) उत्तरप्रदेश (4) गुजरात

Where is the first women court in India ?

- (1) Maharashtra (2) Andhra Pradesh (3) Uttar Pradesh (4) Gujarat

135. 'मनरेगा' बाबत 2008 - 09 ते 2011 - 12 या तीन वर्षातील महाराष्ट्राने हाती घेतलेल्या कामांपैकी पूर्णत्वास नेलेल्या कामाची प्रगती _____ या राज्यांपेक्षा कमी आहे.

- (अ) आंध्रप्रदेश, मध्यप्रदेश, गुजरात (ब) उत्तर प्रदेश, प. बंगाल, कर्नाटक
(क) हरियाणा, छत्तीसगड, झारखंड (ड) राजस्थान, तामिळनाडु, बिहार
कोणते उत्तर बरोबर आहे ?

- (1) (अ) फक्त (2) (अ) आणि (ब)
(3) (अ), (ब) आणि (क) (4) (अ), (ब), (क) आणि (ड)

The progress in completed works in the state of Maharashtra of MGNREGA during 2008-09 to 2011-12 is less than that in the following states :

- (a) Andhra Pradesh, Madhya Pradesh, Gujarat
(b) Uttar Pradesh, W. Bengal, Karnataka
(c) Haryana, Chhatisgarh, Jharkhand
(d) Rajashtan, Tamilnadu, Bihar

Which answer is correct ?

- (1) (a) only (2) (a) and (b)
(3) (a) (b) and (c) (4) (a) (b) (c) and (d)

136. खालीलपैकी कोणाला शेवटचा 'भारत रत्न' पुरस्कार बहाल करण्यात आला आहे ?

- (1) ए.पी.जे.अब्दुल कलाम (2) भिमसेन जोशी
(3) पंडीत रविशंकर (4) एम.एस. सुब्बलक्ष्मी

Who is the last recipient of the 'Bharat Ratna' award ?

- (1) A.P.J. Abdul Kalam (2) Bhimsen Joshi
(3) Pandit Ravishankar (4) M.S. Subbulakshmi

कच्च्या कामासाठी जागा /SPACE FOR ROUGH WORK

137. भारतात ग्रामीण व शहरी क्षेत्रातील गर्भवती महिलांकरिता पूर्णतः निशुल्क सुविधा केव्हापासुन करण्यात आली ?

- (1) जून 2010 (2) जून 2011 (3) जुलै 2011 (4) जानेवारी 2012

When has total free service for pregnant women in urban and rural areas begun in India ?

- (1) June - 2010 (2) June - 2011 (3) July - 2011 (4) January - 2012

138. जुलै 2012 मध्ये मारबेला स्पेन येथे आयोजित करण्यात आलेल्या 'सोलो इंटरनॅशनल सँड आर्ट' स्पर्धेत दोन सुवर्णपदके कोणी जिंकली ?

- (1) सुदर्शन पटनाईक (2) कुलंदेइ फ्रँचिंज
(3) जी. गोपालकृष्णन (4) मायकेल फेल्प्ज

Who won two Gold medals at the Solo International Sand Art' contest held in Marbella Spain in July 2012 ?

- (1) Sudarsan Pattnaik (2) Kulandei Francis
(3) G. Gopal Krishnan (4) Michael Phelps

139. कोणत्या देशाचे नाव पोलिओग्रस्त देशांच्या यादीतून जागतिक आरोग्य संघटनेने काढलेले आहे ?

- (1) पाकिस्तान (2) इराण (3) भारत (4) दक्षिण आफ्रिका

Which country has been excluded from the list of polio affected countries by the World Health Organization ?

- (1) Pakistan (2) Iran (3) India (4) South Africa

140. भारतातील सर्वाधिक अर्भक मृत्यु दर कोणत्या राज्यात आहे ?

- (1) महाराष्ट्र (2) मध्यप्रदेश (3) ओडिसा (4) छत्तीसगड

Which state has the highest foetus mortality rate in India ?

- (1) Maharashtra (2) Madhya Pradesh (3) Orissa (4) Chattisgarh

141. OLED म्हणजे -

- (1) Organic Light Emitting Diode (2) Organic Linear Emission Diode
(3) Organised Light Emitting Diode (4) Oceanic Light Emitting Diode

OLED stands for :

- (1) Organic Light Emitting Diode (2) Organic Linear Emission Diode
(3) Organised Light Emitting Diode (4) Oceanic Light Emitting Diode

कच्च्या कामासाठी जागा /SPACE FOR ROUGH WORK

142. लोकप्रतिनिधीत्व (संशोधित) अधिनियम 2010 चा कायदा 10 फेब्रुवारी 2011 पासून लागू करण्यात आला तो खालीलपैकी कशाशी संबंधीत आहे ?

- (1) स्त्रियांना विधानमंडळामध्ये आरक्षण
- (2) अनुसूचित जाती जमातीकरीता विधानमंडळामध्ये आरक्षण
- (3) अन्य देशातील भारतीय नागरिकांना मतदानाचा अधिकार
- (4) मतदान करतांना फोटो ओळखपत्र अनिवार्य

Peoples Representation (Ammendment) Act. 2010 which came into force on 10th February 2011, is related to _____.

- (1) Reservation of women in Legislative Council
- (2) Reservation to SC and ST in Legislative Council
- (3) Right of voting to N.R.Is
- (4) Compulsory Photo ID Card for voting

143. अखिल भारतीय मराठी नाट्य-परिषदेच्या वतीने देण्यात येणारा 2011 चा जीवन गौरव पुरस्कार खालीलपैकी कोणाला देण्यात आला ?

- (1) प्रसाद सावकार - जयमाला शिलेदार
- (2) विनय आपटे
- (3) स्मिता तळवळकर
- (4) वरीलपैकी कोणालाही नाही

Who is honoured with Jivan Gaurav award for 2011 by Akhil Bharatiya Marathi Natya Parishad ?

- (1) Prasad Savkar - Jaymala Shiledar
- (2) Vinay Apate
- (3) Smita Talvalkar
- (4) None of these

144. जगात लोकपाल सारखी संस्था स्थापन करणाऱ्या पहिल्या देशाचे नाव सांगा -

- (1) ब्रिटन
- (2) स्विडन
- (3) रशिया
- (4) अमेरिका

Name the first country to establish an institution like Lokpal :

- (1) Britain
- (2) Sweden
- (3) Russia
- (4) United States of America

145. भारतातील कोणत्या राज्यांनी हरित क्रांतीतून जास्तीत जास्त फायदा मिळविला ?

- (1) पंजाब, हरीयाणा आणि उत्तर प्रदेश
- (2) बिहार, पश्चिम बंगाल आणि आसाम
- (3) राजस्थान, गुजरात आणि महाराष्ट्र
- (4) तामिळनाडु, आंध्रप्रदेश आणि केरळ

Which states of India have derived maximum benefits from the Green Revolution ?

- (1) Punjab, Haryana and Uttar Pradesh
- (2) Bihar, West Bengal and Assam
- (3) Rajasthan, Gujarat and Maharashtra
- (4) Tamilnadu, Andhra Pradesh and Kerala

कच्च्या कामासाठी जागा /SPACE FOR ROUGH WORK

146. महाराष्ट्राच्या विधानपरिषदेचे विरोधी पक्ष नेते म्हणून डिसेंबर 2011 मध्ये खालीलपैकी कोणाची निवड करण्यात आली ?

- | | |
|---------------------|----------------|
| (1) विनोद तावडे | (2) एकनाथ खडसे |
| (3) भाऊसाहेब फुंडकर | (4) रामदास कदम |

Who was elected as the opposition leader of the Maharashtra Legislative Council in December 2011 ?

- | | |
|-----------------------|--------------------|
| (1) Vinod Tawade | (2) Eknath Khadase |
| (3) Bhausahab Fundkar | (4) Ramdas Kadam |

147. रेल्वे प्रवाशांसाठी इंटरनेटद्वारे केलेल्या आरक्षणाचा 'एस.एम.एस.' इलेक्ट्रॉनिक तिकीट (इ.तिकीट) म्हणून ग्राह्य धरण्याचा निर्णय केव्हा पासून रेल्वे मंत्रालयाने लागू केला ?

- | | |
|-----------------------|-----------------------|
| (1) 4 फेब्रुवारी 2012 | (2) 6 फेब्रुवारी 2012 |
| (3) 8 फेब्रुवारी 2012 | (4) 6 जानेवारी 2012 |

From which date has the Railway Ministry started granting sms as a 'E - Ticket' for Railway reservation ?

- | | |
|-----------------------------------|-----------------------------------|
| (1) 4 th February 2012 | (2) 6 th February 2012 |
| (3) 8 th February 2012 | (4) 6 th January 2012 |

148. 15 एप्रिल 2012 रोजी कोयना धरणात दुसरे लेक्टॉपिंग करण्यात आले त्याची प्रमुख उद्दिष्ट्ये -

- (अ) महाराष्ट्राला मिळालेले अतिरिक्त 25 टिएमसी पाणी वापरणे शक्य होणार.
 (ब) डिसेंबर 2012 अखेरपर्यंत महाराष्ट्र वीजेबाबत भारनियमन मुक्त करणे.
 (क) टेंभू, ताकारी, म्हैसाळ या उपसा जलसिंचन योजनेला फायदा मिळवून देणे.
 (ड) बाराही महिने अखंडपणे वीज निर्माण करणे शक्य होणार.

कोणती विधाने बरोबर आहेत ?

- | | |
|-----------------|---------------------------|
| (1) (अ) फक्त | (2) (अ) आणि (ब) |
| (3) (ब) आणि (क) | (4) (अ), (ब), (क) आणि (ड) |

What are the main objects of the 2nd Lake Taping of Koyana Dam that took place on 15th April, 2012 ?

- (a) Utilization of extra 25 TMC water of Maharashtra quota
 (b) To make Maharashtra free from load shedding up to Dec. 2012
 (c) To benefit the Tembhu, Takari, Mhaisal Lift Irrigation Schemes
 (d) Continuous production of electricity through out the year

Which statements are correct ?

- | | |
|-----------------|-------------------------|
| (1) (a) only | (2) (a) and (b) |
| (3) (b) and (c) | (4) (a) (b) (c) and (d) |

149. भारतातील घटक राज्याचा मुख्यमंत्री राष्ट्रपतीच्या निवडणूकीमध्ये मत देण्यास अपात्र ठरतात जर _____ .

- (1) ते स्वतःच उमेदवार असतील
- (2) ते काळजीवाहु मुख्यमंत्री असतील
- (3) ते राज्य विधिमंडळाच्या वरिष्ठ सभागृहाचे सभासद असतील
- (4) त्यांनी अद्याप राज्य विधिमंडळाच्या कनिष्ठ सभागृहात आपले बहुमत सिद्ध केले नसेल.

The chief minister of state in India is not eligible to vote in the Presidential election if _____ .

- (1) He himself is a candidate
- (2) He is a caretaker Chief Minister
- (3) He is a member of Upper House of State Legislature
- (4) He is yet to prove majority on the floor of the Lower House of State Legislature

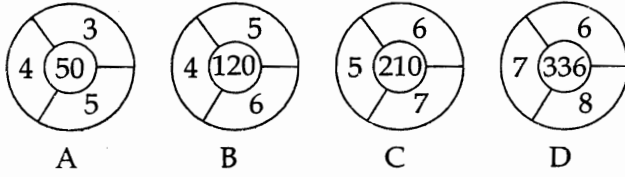
150. _____ ही भारतातील पहिली मोबाईल व्हॅलेट सेवा देणारी दूरसंचार कंपनी बनली आहे.

- (1) आयडिया
- (2) बी.एस.एन.एल.
- (3) व्होडाफोन
- (4) ऐअरटेल

Which company has become the first in India to render mobile wallet service ?

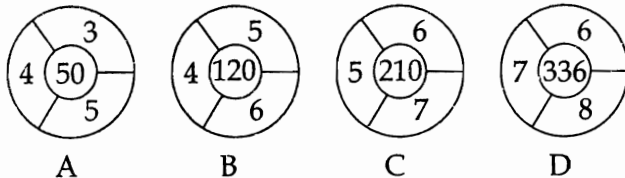
- (1) Idea
- (2) BSNL
- (3) Vodafone
- (4) Airtel

151. गटात न बसणारी आकृती कोणती ?



- (1) A
- (2) B
- (3) C
- (4) D

Spot the odd figure out :



- (1) A
- (2) B
- (3) C
- (4) D

कच्च्या कामासाठी जागा /SPACE FOR ROUGH WORK

152. पहिल्या दोन पदांसारखाच संबंध दुसऱ्या दोन पदांमध्ये आहे. प्रश्नार्थक चिन्हाच्या ठिकाणी योग्य पर्याय निवडा -
ACEG : BDFH :: JLNP : ?
(1) KOMQ (2) IKOM (3) KMOQ (4) IKMO
- The relation between next two terms is the same as in the first two. Select correct alternative in place of the question mark.
ACEG : BDFH :: JLNP : ?
(1) KOMQ (2) IKOM (3) KMOQ (4) IKMO
-
153. जर TEACHER हा शब्द सांकेतिक लिपीत LMKJNMP असा लिहिला जातो, तर HEART शब्द कसा लिहिला जाईल ?
(1) NMAPL (2) NMPKL (3) NPKML (4) NMKPL
- If TEACHER is coded as LMKJNMP, then how will HEART be coded ?
(1) NMAPL (2) NMPKL (3) NPKML (4) NMKPL
-
154. एका सांकेतिक भाषेत PURSE हा शब्द OSOOZ असा लिहिला जातो. त्या भाषेत MONEY हा शब्द कसा लिहिला जाईल ?
(1) LMLAT (2) LMKZT (3) LMKAT (4) LKMAT
- In a code language PURSE is written as OSOOZ ; in that language how will MONEY be written ?
(1) LMLAT (2) LMKZT (3) LMKAT (4) LKMAT
-
155. एक मुलगी घरातून निघते. सर्वप्रथम ती वायव्य दिशेला 30 मी. जाते, त्यानंतर नैऋत्य दिशेला 30 मी. जाते, नंतर आग्नेय दिशेला 30 मी. जाऊन शेवटी स्वतःच्या घराकडे वळते. ती आता कोणत्या दिशेने जात आहे ?
(1) ईशान्य (2) वायव्य (3) आग्नेय (4) नैऋत्य
- A girl leaves from her home. She first walks 30 metres in north - west direction and then 30 metres in south - west direction. Next, she walks 30 metres in south-east direction. Finally, she turns towards her house which direction is she facing now ?
(1) North - East (2) North - West (3) South - East (4) South - West
-
156. पहिल्या दोन पर्यायांसारखाच संबंध दुसऱ्या दोन पदांमध्ये आहे. प्रश्नार्थक चिन्हाच्या जागी योग्य पर्याय निवडा ?
5 : 30 :: 10 : ?
(1) 100 (2) 90 (3) 110 (4) 80
- The relation between next two terms is the same as in the first two terms. Select the correct alternative in place of the question mark.
5 : 30 :: 10 : ?
(1) 100 (2) 90 (3) 110 (4) 80

कच्च्या कामासाठी जागा /SPACE FOR ROUGH WORK

157. रस्त्याने एक पुरुष व एक स्त्री जात होते. त्या पुरुषाला एकाने विचारले 'ही स्त्री कोण आहे?' तो पुरुष उत्तरला: 'हिची सांसू, माझ्या सासूला आई म्हणते'. तर रस्त्याने जाणाऱ्या स्त्री चे सोबतच्या पुरुषाशी नाते काय ?

- (1) पत्नी (2) मुलगी (3) सून (4) बहीण

A man and a woman were going by a street. Someone asked the man about his relationship with the woman ; The man replied. 'Her mother in law, calls my mother in law as mother'. What is the relation of the woman, to the man who is with her ?

- (1) Wife (2) Daughter (3) Daughter in law (4) Sister

158. पुढील शृंखलेतील क्रमाने येणारे पुढील पद कोणते ?

AZN, BYP, CXR, DWT, _____.

- (1) EVT (2) ETT (3) EVV (4) EUU

What will be the next term in the given series ?

AZN, BYP, CXR, DWT, _____.

- (1) EVT (2) ETT (3) EVV (4) EUU

159. अयोग्य जोडी ओळखा -

- (अ) WITH : TIHW (ब) JUST : SUTJ
(क) HAVE : AVEH (ड) DONE : NOED
(1) (अ) (2) (ब) (3) (क) (4) (ड)

Spot the odd pair out.

- (a) WITH : TIHW (b) JUST : SUTJ
(c) HAVE : AVEH (d) DONE : NOED
(1) (a) (2) (b) (3) (c) (4) (d)

160. प्रश्नार्थक चिन्हाच्या जागी सुसंगत आकडा भरण्यासाठी योग्य पर्याय निवडा -

9 4 20
8 5 12
7 6 ?

- (1) 7 (2) 6 (3) 5 (4) 4

Choose correct alternative in place of the question mark.

9 4 20
8 5 12
7 6 ?

- (1) 7 (2) 6 (3) 5 (4) 4

कच्च्या कामासाठी जागा /SPACE FOR ROUGH WORK

161. खालील संख्या मालिकेत किती वेळा 8 हा अंक 6 त्याच्या आधी असताना आणि 4 त्याच्या लगेच नंतर नसतांना आला आहे ?

84286436853587437682406843

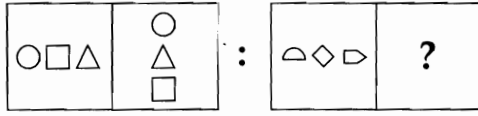
- (1) एक (2) दोन (3) चार (4) सहा

In the series given below how many times has 8 come with 6 preceding it and 4 not immediately following it :n

84286436853587437682406843

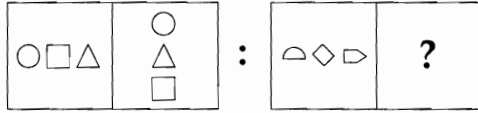
- (1) One (2) Two (3) Four (4) Six

162. प्रश्न चिन्हाच्या जागी योग्य आकृती निवडा



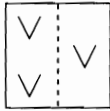
- (1) (2) (3) (4)

Select correct figure in place of the question mark.



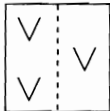
- (1) (2) (3) (4)

163. एका पारदर्शक चौरसाकृती कागदावर आकृतीत दाखविल्याप्रमाणे नक्षी काढलेली आहे. तुटक रेषेने दाखविलेल्या जागेवर कागदास घडी घातल्यास नक्षी कशी दिसेल ?



- (1) (2) (3) (4)

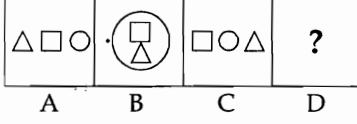
A square transparent paper has a design on it, as shown in the figure. On folding on the dotted line, how will the design look like ?



- (1) (2) (3) (4)

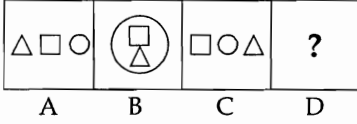
कच्च्या कामासाठी जागा /SPACE FOR ROUGH WORK

164. खाली दिलेल्या आकृत्यांपैकी A चा B शी निश्चित संबंध आहे. C चा D शी तसाच संबंध प्रस्थापित करण्यासाठी योग्य पर्याय निवडा -



- (1)
- (2)
- (3)
- (4)

In the figure given below A has definite relationship with B. Establish a similar relationship between figures C and D by selecting a suitable figure from the options :



- (1)
- (2)
- (3)
- (4)

165. राम, मोहनपेक्षा 525 दिवसांनी मोठा आहे, रामची बहीण सीमा, त्याच्यापेक्षा 75 आठवड्यांनी मोठी आहे. जर सीमाचा जन्मदिवस सोमवार असेल, तर रामचा ज्या दिवशी जन्म झाला तो दिवस कोणता ?

- (1) सोमवार (2) मंगळवार (3) बुधवार (4) गुरुवार

Ram is older than Mohan by 525 days ; Seema, the sister of Ram is older than him by 75 weeks. If Monday is Seema's birthday, what was the day at the time of birth of Ram ?

- (1) Monday (2) Tuesday (3) Wednesday (4) Thursday

166. जर BAD शब्द SAD असा लिहिला, GOD शब्द XOD असा लिहिला, तर COT शब्द कसा लिहिला जाईल ?

- (1) COD (2) TOT (3) COT (4) TOC

If BAD is written as SAD, GOD is written as XOD, then how will COT be written ?

- (1) COD (2) TOT (3) COT (4) TOC

167. जर '+' चा अर्थ 'x', 'x' चा अर्थ '÷', '-' चा अर्थ '+', '÷' चा अर्थ '-' तर -

$20 - 5 \div 18 \times (3 + 2)$ ची किंमत किती ?

- (1) 18 (2) 20 (3) 22 (4) 24

If '+' means 'x', 'x' means '÷', '-' means '+', '÷' means '-'. Then what will be the result of :

$20 - 5 \div 18 \times (3 + 2)$?

- (1) 18 (2) 20 (3) 22 (4) 24

कच्च्या कामासाठी जागा /SPACE FOR ROUGH WORK

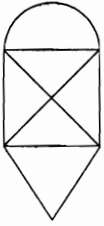
168. जर BEST = 3800 ; ROAD = 1080 तर HERO = ?

- (1) 5810 (2) 38000 (3) 10800 (4) 1540

If BEST = 3800 ; ROAD = 1080 then HERO = ?

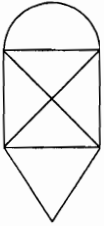
- (1) 5810 (2) 38000 (3) 10800 (4) 1540

169. दिलेल्या आकृतीत एकूण किती त्रिकोण आहेत ?



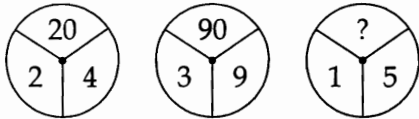
- (1) 5 (2) 10 (3) 9 (4) 7

How many triangles are there in the given figure ?



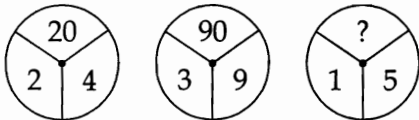
- (1) 5 (2) 10 (3) 9 (4) 7

170. प्रश्नार्थक चिन्हाच्या ठिकाणी योग्य संख्या भरा -



- (1) 20 (2) 25 (3) 26 (4) 75

Select correct alternative in place of question mark.



- (1) 20 (2) 25 (3) 26 (4) 75

कच्च्या कामासाठी जागा /SPACE FOR ROUGH WORK

171. 'अ' चे घड्याळ तासाला 3 मिनिटे पुढे जाते. 'ब' चे तासाला 5 मिनिटे मागे पडते तर 6 तास 15 मिनिटांनी दोघांच्या वेळेत किती मिनिटांचा फरक पडेल ?

- (1) 50 मिनिटे (2) 1 तास 10 मिनिटे
(3) 40 मिनिटे (4) 35 मिनिटे

'A's watch is faster by three minutes per hour. 'B's watch lags by five minutes per hour. What will be the difference in the time of two watches after 6 hours and 15 minutes ?

- (1) 50 minutes (2) 1 hour 10 minutes
(3) 40 minutes (4) 35 minutes

172. पहिल्या दोन पदात जो संबंध आहे, तोच तिसऱ्या आणि चौथ्या पदात आहे. तर प्रश्नार्थक चिन्हाच्या ठिकाणी योग्य पर्याय निवडा -

6 : 56 :: 9 : ?

- (1) 81 (2) 54 (3) 65 (4) 89

The relation between third and fourth terms is the same as in the first two. Select the correct alternative in place of the question mark.

6 : 56 :: 9 : ?

- (1) 81 (2) 54 (3) 65 (4) 89

173. क्रमाने येणारी पुढील संख्या कोणती ?

1296, 2448, 4824, _____

- (1) 3636 (2) 9612 (3) 4884 (4) 8442

What will be the next figure in the series ?

1296, 2448, 4824, _____

- (1) 3636 (2) 9612 (3) 4884 (4) 8442

174. प्रश्नचिन्हाच्या जागी अचूक पर्याय कोणता ?

A	C	E	G	?
1	3	25	343	?

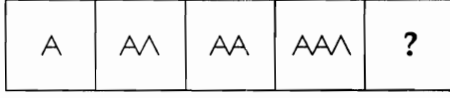
- (1) $\frac{I}{6561}$ (2) $\frac{K}{547}$ (3) $\frac{N}{729}$ (4) $\frac{I}{126}$

Which is the correct alternative in place of the question mark ?

A	C	E	G	?
1	3	25	343	?

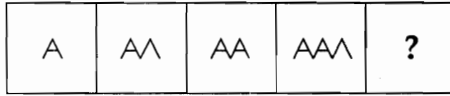
- (1) $\frac{I}{6561}$ (2) $\frac{K}{547}$ (3) $\frac{N}{729}$ (4) $\frac{I}{126}$

175. क्रमाने येणारी नंतरची आकृती कोणती ?



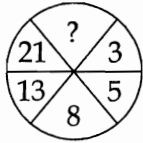
- (1)  (2)  (3)  (4) 

What will be the next figure ?



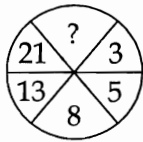
- (1)  (2)  (3)  (4) 

176. प्रश्नार्थक चिन्हाच्या ठिकाणी योग्य पर्याय निवडा -



- (1) 24 (2) 16 (3) 34 (4) 26

Select the correct alternative in place of the question mark.



- (1) 24 (2) 16 (3) 34 (4) 26

177. श्रेणीतील रिकाम्या जागी योग्य पर्याय निवडा -

abc 19, bcd 22, cde 25, def 28, _____.

- (1) efh 31 (2) efg 31 (3) efh 30 (4) egf 31

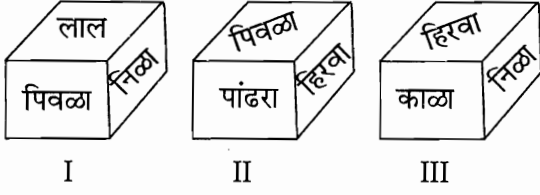
Select the correct alternative to continue the series :

abc 19, bcd 22, cde 25, def 28, _____.

- (1) efh 31 (2) efg 31 (3) efh 30 (4) egf 31

कच्च्या कामासाठी जागा /SPACE FOR ROUGH WORK

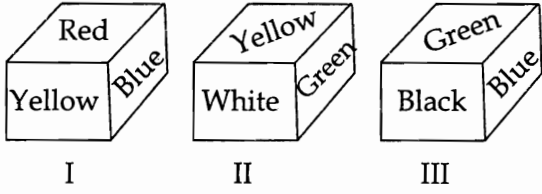
178. फास्याच्या तीन अवस्था दिलेल्या आहेत -



निळ्या रंगाच्या विरुद्ध अंगाला कोणता रंग असेल ?

- (1) पांढरा (2) लाल (3) पिवळा (4) हिरवा

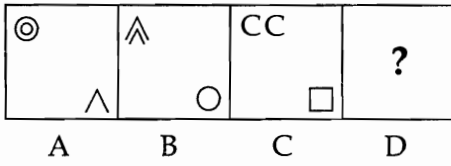
Three positions of a dice are given.



Which colour will there be opposite to the Blue ?

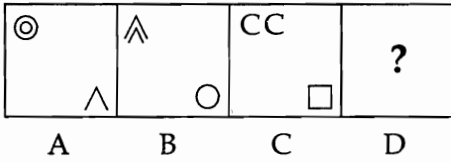
- (1) White (2) Red (3) Yellow (4) Green

179. खाली दिलेल्या आकृत्यांपैकी A चा B शी निश्चित संबंध आहे. C चा D शी तसाच संबंध प्रस्थापित करण्यासाठी योग्य पर्याय निवडा -



- (1) (2) (3) (4)

In the figure given below A has definite relationship with B. Establish a similar relationship between figures C and D by selecting a suitable figure from the options.



- (1) (2) (3) (4)

कच्च्या कामासाठी जागा /SPACE FOR ROUGH WORK

180. दिलेल्या पर्यायातून, रिकाम्या जागी योग्य शब्द भरा -

जर grain (roti) coat ; Ntack (toyc) body तर Stake (_____) table.

- (1) talk (2) tbke (3) bate (4) esbk

Fill in the blank with the correct alternative.

If grain (roti) coat ; Ntack (toyc) body then Stake (_____) table.

- (1) talk (2) tbke (3) bate (4) esbk

181. महाराष्ट्र नागरी सेवा (रजा) नियम 1981 अन्वये कर्मचाऱ्याने स्वेच्छेने विनामुल्य रक्तदान केल्यास _____ दिवस खास नैमित्तिक रजा मिळते.

- (1) 1 (2) 2 (3) 3 (4) 7

As per the provisions of the Maharashtra Civil Services Rules (Leave) 1981 an employee is eligible to get a special casual leave for _____ day/days if he voluntary donates blood for free :

- (1) 1 (2) 2 (3) 3 (4) 7

182. राज्य मुख्य माहिती आयुक्तास किंवा राज्य महिती आयुक्तास पदावरून दूर करणेबाबतची तरतूद माहितीचा अधिकार अधिनियम 2005 च्या खालीलपैकी कोणत्या कलमात आहे ?

- (1) कलम 17 (2) कलम 18 (3) कलम 3 (4) कलम 4

Under which section of the Rights to Information Act 2005 there is a provision for removal of the State Chief Information Commissioner or State Information Commissioner ?

- (1) Section 17 (2) Section 18 (3) Section 3 (4) Section 4

183. महाराष्ट्र अन्नधान्य वितरण (द्वितीय) आदेश 1966 च्या कलम तीन (3) मध्ये खालीलपैकी कशाबाबत तरतूद आहे ?

- (1) अधिकृत शिधावाटप दुकानाना प्राधिकार पत्र देणे
 (2) शिधापत्रिका देण्याचा अधिकार
 (3) शिधापत्रिका रद्द करणे बाबत
 (4) साठामर्यादेवर निर्बंधांबाबत

What does section - 3 of the Maharashtra Food grains Rationing (second) order 1966 provide for ?

- (1) Issue of authorization to ration shops
 (2) Power to issue ration cards
 (3) Cancellation of ration cards
 (4) Restrictions on hoardings

कच्च्या कामासाठी जागा /SPACE FOR ROUGH WORK

184. फौजदारी प्रक्रिया संहिता, 1973 च्या कोणत्या कलमाच्या झडती व जप्तीसंबंधातील तरतुदी शक्य असेल तेथवर, सार्वजनिक वितरण व्यवस्था (नियंत्रण) आदेश 2001 या आदेशाखालील झडतीच्या व जप्तीच्या बाबतीत लागू होतील.

- (1) 100 (2) 153 (3) 320 (4) 456

Which section of the Code of Criminal Procedure 1973, relating to search and seizure shall so far as apply to search and seizure under the provisions of Public Distribution System (Control) order 2001 :

- (1) 100 (2) 153 (3) 320 (4) 456

185. दि महाराष्ट्र केरोसीन डिलर्स लायसेन्सिंग आर्डर, 1966 चे कलम 2 (ड) नुसार 'हॉकर' याचा अर्थ एका वेळी एका व्यक्तीस _____ लिटर्स पेक्षा जास्त नसेल इतक्या कमी परिमाणात जागोजागी विक्रीकरीता केरोसीन वाहून नेणारी व्यक्ती असा आहे.

- (1) 10 (2) 25 (3) 50 (4) 100

As per the provisions of section 2 (D) of the Maharashtra Kerosene Dealer's Licensing order 1966. "Hawker" means a person who carries kerosene from place to place for sale in small quantities not exceeding _____ litres per person at any one time.

- (1) 10 (2) 25 (3) 50 (4) 100

186. दि महाराष्ट्र सॉल्वंट रेफिनेट व स्लॉप (अनुज्ञापन) आर्डर 2007 अंतर्गत किती क्षमतेच्या वरील वापर व साठवणूकी-साठी अनुज्ञप्ती घेणे अनिवार्य आहे ?

- (1) 30 K.L. वापर, 10 K.L. साठवणूक (2) 40 K.L. वापर, 30 K.L. साठवणूक
(3) 50 K.L. वापर, 20 K.L. साठवणूक (4) 20 K.L. वापर, 30 K.L. साठवणूक

Above what quantities of usage and storage, it is mandatory to take a licence under the Maharashtra Solvent Rafinate and slop (licence) order 2007.

- (1) 30 K.L. use and 10 K.L. storage (2) 40 K.L. use and 30 K.L. storage
(3) 50 K.L. use and 20 K.L. storage (4) 20 K.L. use and 30 K.L. storage

187. महाराष्ट्र नागरी सेवा (शिस्त व अपील) नियम 1979 मधील कोणत्या कलमान्वये दोषी कर्मचाऱ्यास जबर शिक्षा करण्याबाबतची कार्यपद्धती नमूद केलेली आहे ?

- (1) कलम 3 (2) कलम 4 (3) कलम 5 (4) कलम 8

Which section of the Maharashtra Civil Services (discipline and appeal) Rules 1979, provides the procedure for inflicting major punishment on a Govt. employee ?

- (1) Section 3 (2) Section 4 (3) Section 5 (4) Section 8

कच्च्या कामासाठी जागा /SPACE FOR ROUGH WORK

188. महाराष्ट्र शेड्युल्ड कमोडिटीज् होलसेल डिलर्स लायसेन्सिंग ऑर्डर 1998 अंतर्गत अर्जासाठी व परवान्यासाठी कोणते नमुने विहित केले आहेत ?

- (1) फॉर्म A व फॉर्म B (2) फॉर्म A व फॉर्म C
(3) फॉर्म C व फॉर्म D (4) फॉर्म B व फॉर्म C

Which forms have been prescribed for making application and issuing licence under the Maharashtra scheduled commodities wholesale dealers licensing order 1998 ?

- (1) Form A and Form B (2) Form A and Form C
(3) Form C and Form D (4) Form B and Form C

189. पब्लिक डिस्ट्रीब्युशन सिस्टीम (कंट्रोल) ऑर्डर 2001 ही केंद्रशासनाने कोणत्या तारखेस राजपत्रात प्रसिद्ध केली ?

- (1) 1 सप्टेंबर 2001 (2) 31 ऑगस्ट 2001 (3) 1 मार्च 2001 (4) 1 जुलै 2001

On which date the Public Distribution (control) order 2001 was published in a gazette by the Government of India ?

- (1) 1st September 2001 (2) 31st August 2001
(3) 1st March 2001 (4) 1st July 2001

190. महाराष्ट्र नागरी सेवा (वर्तणूक) नियम 1979 च्या कोणत्या कलमान्वये शासकीय कर्मचाऱ्यास देणग्या स्विकारण्यास मनाई आहे ?

- (1) 10 (2) 11 (3) 12 (4) 13

By which section of the Maharashtra Civil Services (conduct) Rules 1979, a government servant is prohibited from accepting gifts ?

- (1) 10 (2) 11 (3) 12 (4) 13

191. सार्वजनिक प्राधिकरणास माहिती अधिकार अधिनियम अंमलात झाल्यापासून किती दिवसांचे आत प्राधिकरणाबाबत सर्वसाधारण माहिती प्रसिद्ध करावयाची असते ?

- (1) 30 दिवस (2) 60 दिवस (3) 90 दिवस (4) 120 दिवस

Within how many days from the enforcement of the Right To Information Act a public organization is required to publish its general information ?

- (1) 30 days (2) 60 days (3) 90 days (4) 120 days

कच्च्या कामासाठी जागा /SPACE FOR ROUGH WORK

192. केरोसीन (वापरावरील निर्बंध व विक्रीची किंमत निश्चित करणे) आदेश 1993 नुसार "साठवणूकीची जागा" याचा अर्थ मुख्य नियंत्रक _____ याने मंजुरी व अनुज्ञप्ति दिलेली जागा असा होतो.

- | | |
|----------------------|---------------|
| (1) शासकीय तेल कंपनी | (2) विस्फोटके |
| (3) शिधावाटप | (4) वैधमापन |

As per the provisions of the kerosene (Restriction on use and fixation of ceiling price) order 1993, "storage point" means the premises approved or licensed by the chief controller of the _____.

- | | |
|-----------------------|------------------------------|
| (1) Govt. Oil Company | (2) Explosives |
| (3) Rationing | (4) Weights and Measurements |

193. महाराष्ट्र सार्वजनिक वितरण व्यवस्था (पी डी एस) केरोसीन घाऊक विक्रेता, अर्धघाऊक विक्रेता व हॉकर्स (अनुज्ञापन) आदेश, 2009 अन्वये प्रवेश करण्याचा झडती घेण्याचा आणि जप्त करण्याचा अधिकार खालील पैकी _____ या अधिकाऱ्यास देण्यात आलेला नाही.

- | | |
|-------------------------------|-------------------------------------|
| (1) सहाय्यक नियंत्रक शिधावाटप | (2) मुख्य निरीक्षण अधिकारी |
| (3) तहसिलदार | (4) सहाय्यक अन्नधान्य वितरण अधिकारी |

Who among the following is not authorised to enter inspect and seize under the provisions of Maharashtra Public Distribution System (PDS) Kerosene wholesale dealers, semi wholesale dealers and Hockers (Licensing) order 2009.

- | | |
|---------------------------------------|---|
| (1) Assistant controller of rationing | (2) Chief Inspecting Officer |
| (3) Tahasildar | (4) Assistant Food Distribution Officer |

194. महाराष्ट्र केरोसिन डिलर्स लायसेन्सिंग ऑर्डर 1966 अंतर्गत कशासाठी परवाने दिले जातात ?

- | | |
|------------------------------------|----------------------------|
| (1) किरकोळ केरोसिन, होलसेल केरोसिन | (2) हॉकर्स, होलसेल केरोसिन |
| (3) हॉकर्स, किरकोळ केरोसिन | (4) यापैकी कोणतेही नाही |

Which licences are issued under the Maharashtra kerosene Dealers licensing order 1966 ?

- | |
|---|
| (1) Retail kerosene, Wholesale kerosene |
| (2) Hawker, Wholesale kerosene |
| (3) Hawker, Retail kerosene |
| (4) None of the above |

कच्च्या कामासाठी जागा /SPACE FOR ROUGH WORK

195. दि. बॉम्बे रेशनिंग एरिया शेड्युल्ड कमोडिटीज् (रेग्युलेशन ऑफ डिस्ट्रीब्युशन) ऑर्डर 1986 अंतर्गत किती वस्तु अनुसुचित म्हणुन घोषित केल्या आहेत ?

- (1) 3 (2) 4 (3) 5 (4) 7

How many commodities have been declared as scheduled commodities under the Bombay Rationing Area Scheduled Comodities (Regulation of Distribution) order 1986 ?

- (1) 3 (2) 4 (3) 5 (4) 7

196. दारिद्र्य रेषेखालील कुटुंबांचे निर्धारण करण्याची पद्धत सविस्तरपणे खालीलपैकी कोणत्या आदेशान्वये निर्धारित केली आहे ?

- (1) महाराष्ट्र अन्नधान्य शिधावाटप (द्वितीय) आदेश 1966
 (2) महाराष्ट्र अन्नधान्य शिधावाटप (द्वितीय) नियमन आदेश 1966
 (3) मुंबई शिधावाटप क्षेत्र अनुसुचित वस्तु आदेश 1986 (वितरणाचे विनियमाने)
 (4) सार्वजनिक वितरण व्यवस्था (नियंत्रण) आदेश 2001

Which order lays down in detail the procedure for identification of the BPL families ?

- (1) The Maharashtra Foodgrain Rationing (second) order 1966
 (2) The Maharashtra Foodgrain Rationing (second) regulations order 1966
 (3) The Bombay Rationing area scheduled commodities (Regulation of distribution) order 1986
 (4) The Public Distribution System (control) order 2001

197. सार्वजनिक वितरण व्यवस्था (नियंत्रण) आदेश, 2001 अन्वये _____ म्हणजे सार्वजनिक वितरण व्यवस्थेतर्गत रास्त भाव दुकानातून जीवनावश्यक वस्तु खरेदीसाठी राज्यशासनाचे आदेशाने किंवा प्राधिकरणाने वितरित केलेला दस्तऐवज आहे.

- (1) अनुज्ञप्ती (2) परवाना (3) रेशनकार्ड (4) प्राधिकारपत्र

As per the provisions of the Public Distribution System (Control) order 2001 _____ is the document issued by the State Government under an order or authority for the purpose of purchasing the essential commodities from a fair price shop.

- (1) Licence (2) Permit (3) Ration Card (4) Authority Note

कच्च्या कामासाठी जागा /SPACE FOR ROUGH WORK

198. अन्नपूर्णा शिधापत्रिकाधारकास गहू व तांदूळ अनुक्रमे खालीलपैकी प्रति किलो कोणत्या दराने दिले जातात ?

- | | |
|-----------------------|-----------------------|
| (1) ₹ 7.20 आणि ₹ 9.60 | (2) ₹ 5.00 आणि ₹ 6.00 |
| (3) मोफत | (4) ₹ 2.00 व ₹ 3.00 |

At what rates per k.g. are wheat and rice are given to the Annapurna card holders ?

- | | |
|-----------------------|-----------------------|
| (1) ₹ 7.20 and ₹ 9.60 | (2) ₹ 5.00 and ₹ 6.00 |
| (3) Free of cost | (4) ₹ 2.00 and ₹ 3.00 |

199. लिक्विफाईड पेट्रोलिअम गॅस (पुरवठा व वितरण यांचे विनियमन) आदेश, 2000 अन्वये घरगुती वर्गातील उपभोक्त्यांना पुरवठा करण्यात येणाऱ्या एल.पी.जी. सिलेंडरची क्षमता _____ कि.ग्रै. असते.

- | | | | |
|-------|----------|--------|----------|
| (1) 9 | (2) 14.2 | (3) 19 | (4) 15.2 |
|-------|----------|--------|----------|

The capacity of a L.P.G. Cylinder supplied to the domestic consumer under the Liquefied Petroleum Gas (Regulation of Supply and Distribution) order, 2000 is _____ kg.

- | | | | |
|-------|----------|--------|----------|
| (1) 9 | (2) 14.2 | (3) 19 | (4) 15.2 |
|-------|----------|--------|----------|

200. जीवनावश्यक वस्तु कायदा 1955 च्या कलम 7 मध्ये खालीलपैकी कशाबदल तरतूद आहे ?

- | | |
|----------------------------|------------------------------------|
| (1) शिक्षा | (2) जप्त केलेल्या मालाची विल्हेवाट |
| (3) अधिकार प्रदान करणेबाबत | (4) अपील |

What does section 7 of the Essential Commodities Act 1955 provide for ?

- | | |
|--------------------------|--|
| (1) Penalties | (2) Confiscation of seized commodities |
| (3) Delegation of Powers | (4) Appeal |

- o o o -

कच्च्या कामासाठी जागा /SPACE FOR ROUGH WORK

P.T.O.

सूचना — (पृष्ठ 1 वरून पुढे....)

- (8) प्रश्नपुस्तिकेमध्ये विहित केलेल्या विशिष्ट जागीच कच्चे काम (रफ वर्क) करावे. प्रश्नपुस्तिकेव्यतिरिक्त उत्तरपत्रिकेवर वा इतर कागदावर कच्चे काम केल्यास ते कॉपी करण्याच्या उद्देशाने केले आहे, असे मानले जाईल व त्यानुसार उमेदवारावर शासनाने जारी केलेल्या "परीक्षांमध्ये होणाऱ्या गैरप्रकारांना प्रतिबंध करण्याबाबतचे अधिनियम-82" यातील तरतुदीनुसार कारवाई करण्यात येईल व दोषी व्यक्ती कमाल एक वर्षाच्या कारावासाच्या आणि/किंवा रुपये एक हजार रकमेच्या दंडाच्या शिक्षेस पात्र होईल.
- (9) सदर प्रश्नपत्रिकेसाठी आयोगाने विहित केलेली वेळ संपल्यानंतर उमेदवाराला ही प्रश्नपुस्तिका स्वतःबरोबर परीक्षाकक्षाबाहेर घेऊन जाण्यास परवानगी आहे. मात्र परीक्षा कक्षाबाहेर जाण्यापूर्वी उमेदवाराने आपल्या उत्तरपत्रिकेचा भाग-1 समवेक्षकाकडे न विसरता परत करणे आवश्यक आहे.

नमुना प्रश्न

प्र. क्र. 201. "अंगावर काटा उभा रहाणे" या वाक्याप्रचाराचा अर्थ काय ?

- | | |
|----------------------|-------------------|
| (1) अंग शहारणे | (2) रोमांचित होणे |
| (3) अतिशय भिती वाटणे | (4) बहरून येणे |

ह्या प्रश्नाचे योग्य उत्तर "(3) अतिशय भिती वाटणे" असे आहे. त्यामुळे या प्रश्नाचे उत्तर "(3)" होईल. यास्तव खालीलप्रमाणे प्रश्न क्र. 201 समोरील उत्तर-क्रमांक "③" हे वर्तुळ पूर्णपणे छायंकित करून दाखविणे आवश्यक आहे.

प्र. क्र. 201. ① ② ● ④

अशा पद्धतीने प्रस्तुत प्रश्नपुस्तिकेतील प्रत्येक प्रश्नाचा तुमचा उत्तरक्रमांक हा तुम्हाला स्वतंत्ररीत्या पुरविलेल्या उत्तरपत्रिकेवरील त्या त्या प्रश्नक्रमांकासमोरील संबंधित वर्तुळ पूर्णपणे छायंकित करून दाखवावा. ह्याकरिता फक्त काळ्या शाईचे बॉलपेन वापरावे, पेन्सिल वा शाईचे पेन वापरू नये.

कच्च्या कामासाठी जागा /SPACE FOR ROUGH WORK